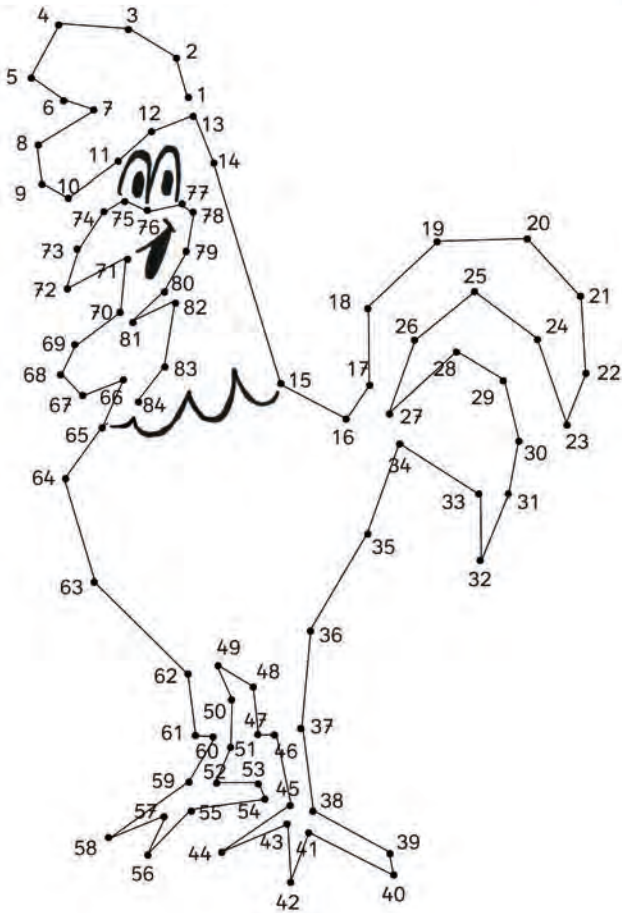
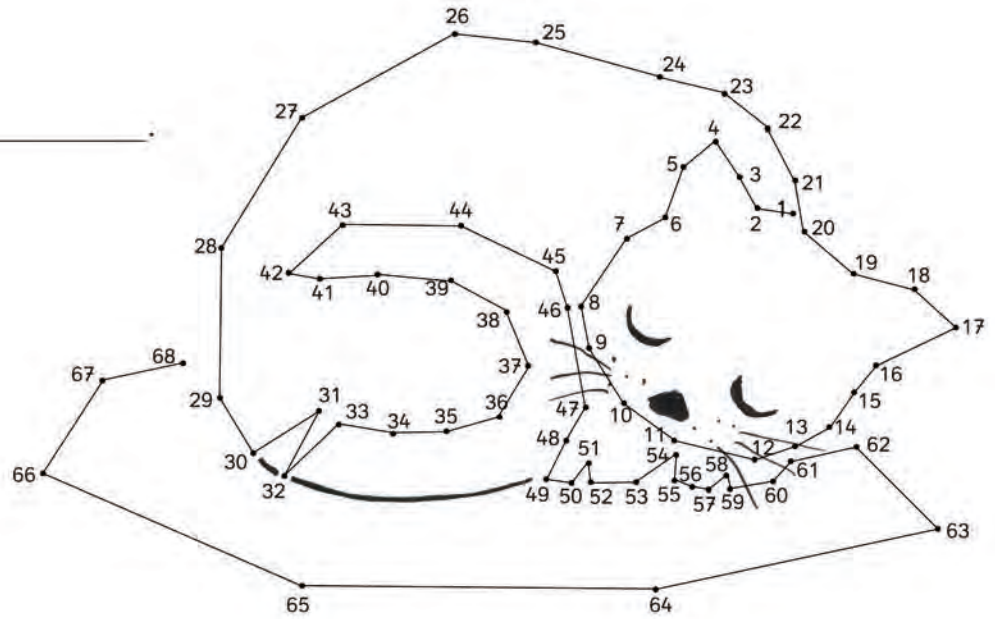


Verbinde die Punkte.

Es ist eine Katze.



Es ist ein Huhn.



Male eines der Bilder aus.

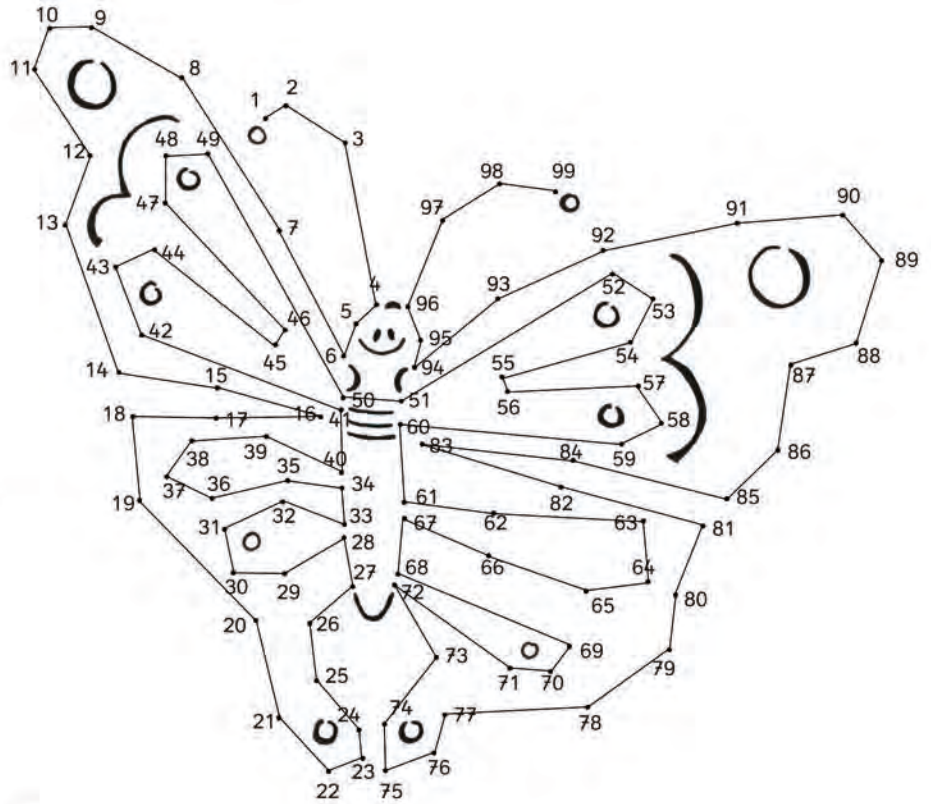


Zeichne ein Huhn.

Verbinde die Punkte.

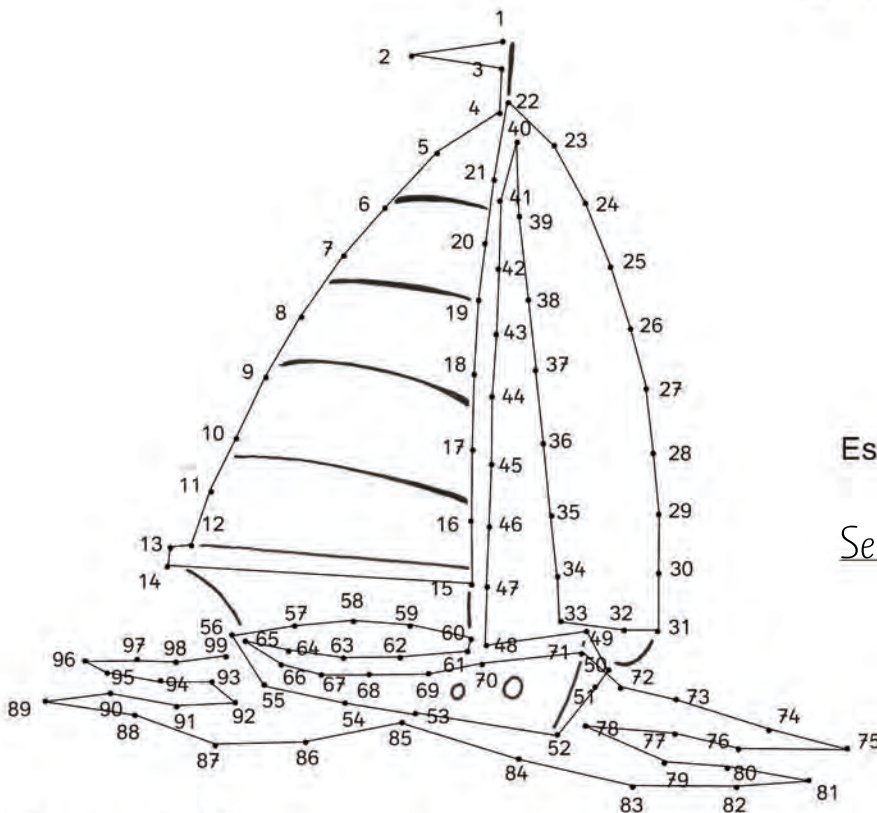
Es ist ein

Schmetterling



Es ist ein

Segelboot

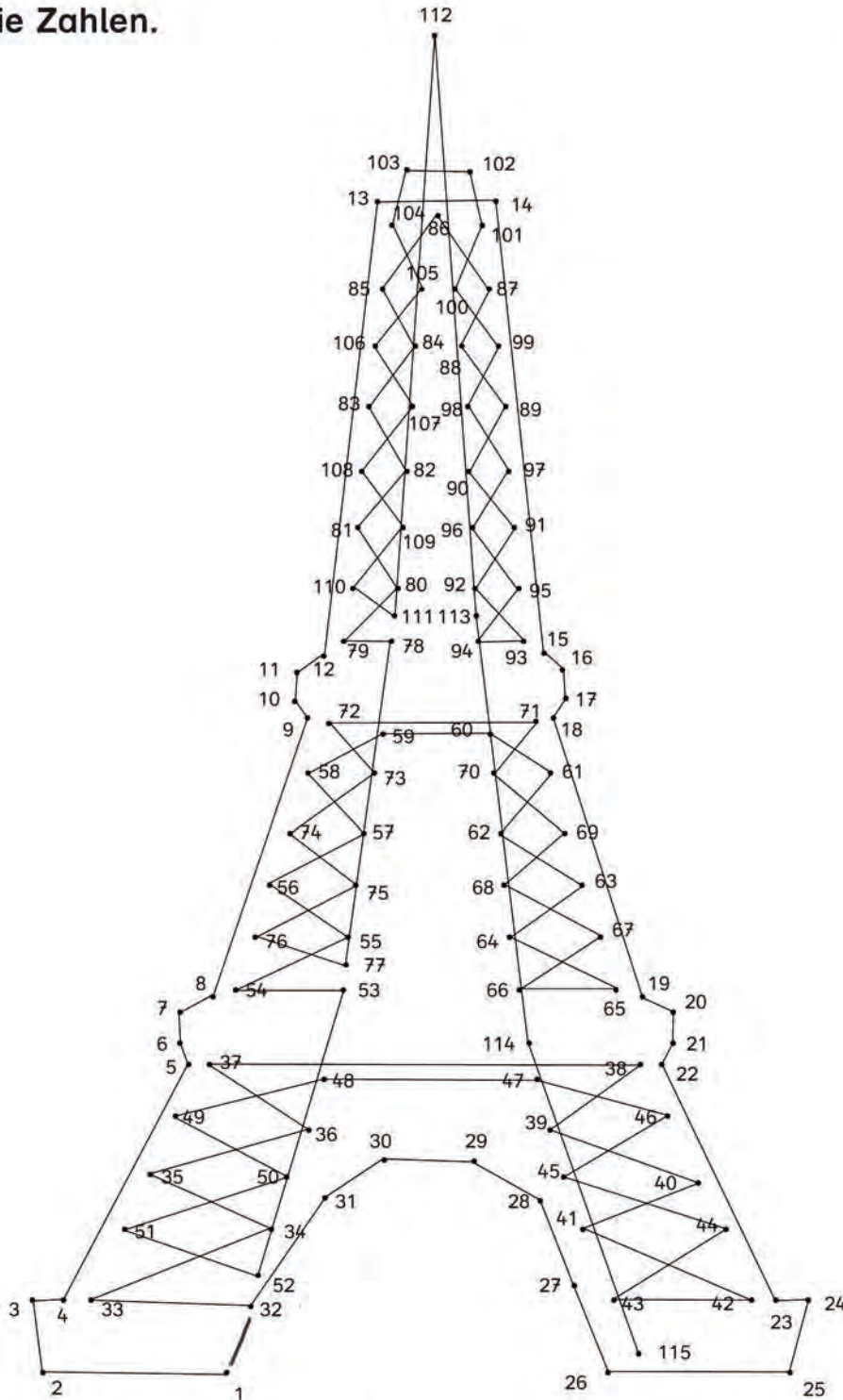


Male die der Bilder aus.



Zeichne selbst ein Punktebild.

Verbinde die Zahlen.









Das ist der Eiffelturm. Er steht in Paris. Paris ist die Hauptstadt von Frankreich. Der Turm ist 324 Meter hoch. Er besteht aus Eisenstangen. Er ist schon mehr als hundert Jahre alt. Du kannst auf den Turm hinaufsteigen oder mit dem Lift hinauffahren. Dann siehst du über die ganze Stadt.



Den Eiffelturm besichtigen sehr viele Touristen. Zeichne sie.

Immer 10 Zehen. Schreibe die Zehnerzahl.

		
<u>80</u>	<u>40</u>	<u>60</u>
		
<u>70</u>	<u>50</u>	<u>100</u>



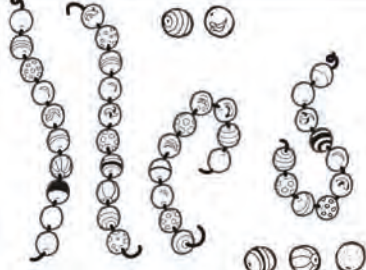



Zeichne.

30	20	10
50	40	70

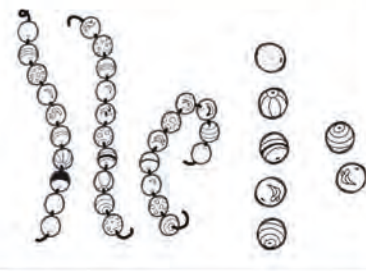


Zeichne die Hände von 10 Kindern. Wie viele Finger sind das?

Wie viele Perlen sind das? Schreibe die Zahl.

		
28	<u>5</u> <u>1</u>	<u>4</u> <u>5</u>
		
<u>6</u> <u>9</u>	<u>3</u> <u>6</u>	<u>7</u> <u>2</u>

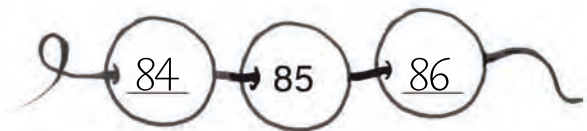
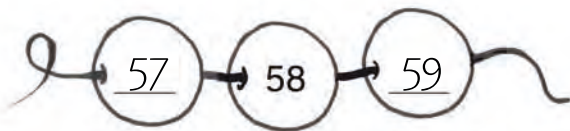
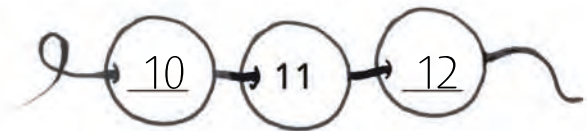
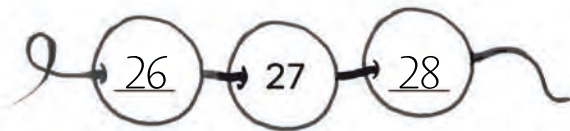
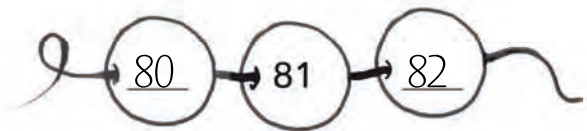
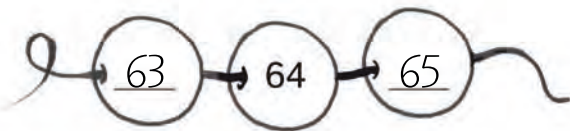

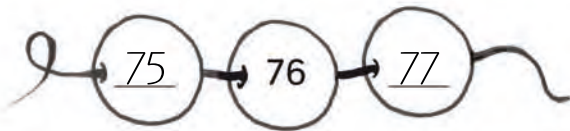
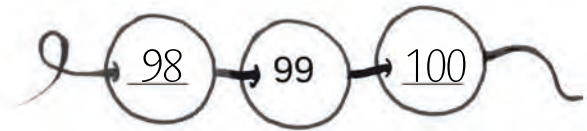
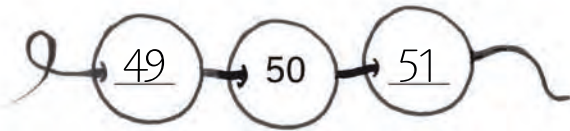
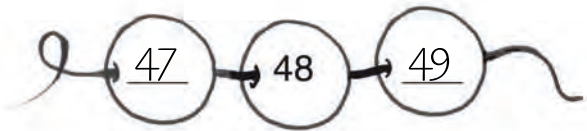
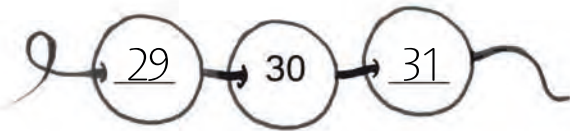
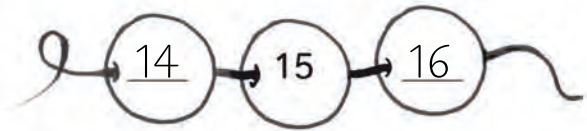
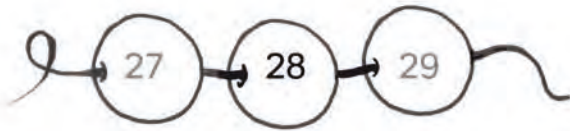
Zeichne Ketten und Perlen zu den Zahlen.

		
37	24	19
13	40	35




Zeichne die Zahlen 56, 78, 43 und 100.


Schreibe die Nachbarzahlen.





Zeichne selbst Ketten mit Nachbarzahlen.


Trage die fehlenden Zahlen ein.


	14	15	16	<u>17</u>	<u>18</u>	<u>19</u>	<u>20</u>	21	<u>22</u>
---	----	----	----	-----------	-----------	-----------	-----------	----	-----------

	56	57	<u>58</u>	59	<u>60</u>	61	<u>62</u>	<u>63</u>	64
---	----	----	-----------	----	-----------	----	-----------	-----------	----

	83	<u>84</u>	<u>85</u>	86	<u>87</u>	<u>88</u>	<u>89</u>	<u>90</u>	91
--	----	-----------	-----------	----	-----------	-----------	-----------	-----------	----

	28	<u>29</u>	<u>30</u>	<u>31</u>	<u>32</u>	<u>33</u>	34	<u>35</u>	<u>36</u>
---	----	-----------	-----------	-----------	-----------	-----------	----	-----------	-----------

	<u>48</u>	<u>49</u>	50	<u>51</u>	<u>52</u>	<u>53</u>	54	<u>55</u>	<u>56</u>
---	-----------	-----------	----	-----------	-----------	-----------	----	-----------	-----------


	<u>93</u>	<u>94</u>	<u>95</u>	<u>96</u>	<u>97</u>	<u>98</u>	<u>99</u>	<u>100</u>	101
---	-----------	-----------	-----------	-----------	-----------	-----------	-----------	------------	-----





Schreibe selbst Zahlenreihen mit Lücken.

Gerade Zahlen: 2 4 6 8 10 12 14 16 18 20 22 ...

Trage nur die geraden Zahlen ein.


	14	16	18	<u>20</u>	<u>22</u>	<u>24</u>	<u>26</u>	28	30
---	----	----	----	-----------	-----------	-----------	-----------	----	----


	28	30	<u>32</u>	34	<u>36</u>	<u>38</u>	40	<u>42</u>	44
---	----	----	-----------	----	-----------	-----------	----	-----------	----


	<u>52</u>	54	56	<u>58</u>	<u>60</u>	<u>62</u>	<u>64</u>	66	68
--	-----------	----	----	-----------	-----------	-----------	-----------	----	----

Ungerade Zahlen: 1 3 5 7 9 11 13 15 17 19 21 ...

Trage nur die ungeraden Zahlen ein.

	13	15	17	<u>19</u>	<u>21</u>	<u>23</u>	25	27	<u>29</u>
---	----	----	----	-----------	-----------	-----------	----	----	-----------


	<u>57</u>	59	61	<u>63</u>	<u>65</u>	<u>67</u>	<u>69</u>	71	73
---	-----------	----	----	-----------	-----------	-----------	-----------	----	----

	<u>33</u>	<u>35</u>	<u>37</u>	39	<u>41</u>	<u>43</u>	<u>45</u>	47	49
---	-----------	-----------	-----------	----	-----------	-----------	-----------	----	----




Schreibe alle geraden Zahlen von 2 bis 100


Ordne die Zahlen. Beginne mit der kleinsten.




15 27 32 48 53
61 76 89 90 102



14 29 56 61 67
84 85 90 96 104




13 25 34 57 62
76 80 84 99 100




19 23 31 55 60
74 86 87 94 102

Beginne jetzt mit der größten Zahl.



104 101 96 87 65
59 45 30 24 17



107 94 89 82 68
56 41 33 15 3

Ordne auch diese Zahlen:

95 17 34 87 22 68 105 71 59 9 38 43 78 123 50


123 105 95 87 78 71 68 59 50 43 38 34 22 17 9



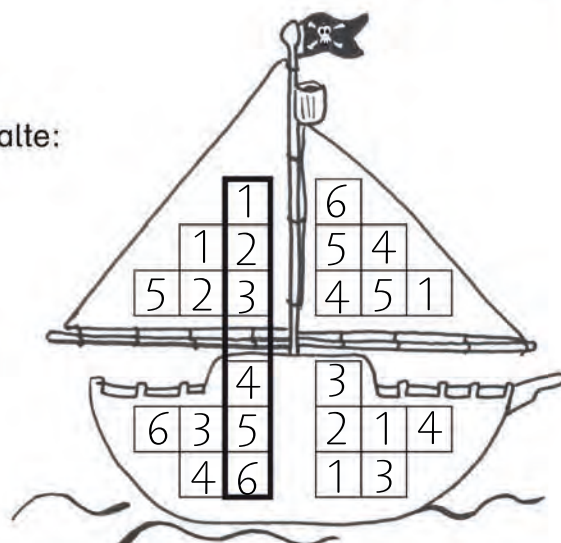
Was würdest du mit so einem Schatz tun? Schreibe.

Verteile die Zahlen 1, 2, 3, 4, 5 und 6.
Keine Zahl darf doppelt vorkommen ...


... in einer Zeile:





... in einer Spalte:





... in einem Bereich:



Löse die Sudokus. Beachte die Sudoku-Regeln.





Löse die Sudokus. Beachte die Sudoku-Regeln.







Schreibe alle Zahlen bis 50 auf, die die Ziffer 1 enthalten. 1, 10, 11, ...







Löse die Sudokus. Beachte die Sudoku-Regeln.




Schreibe 33 Zahlen auf, welche die Ziffer 3 enthalten. 3, 13, 23, 30, ...

Wie viel wiegen die Tiere?



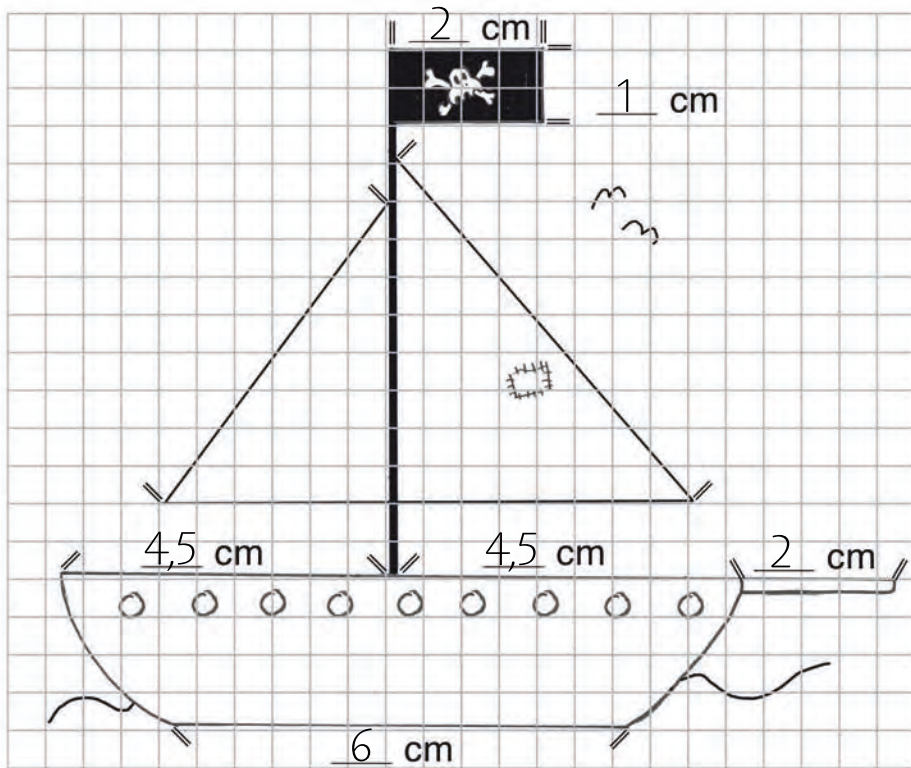
					
<u> </u> kg	<u> </u> kg	<u> </u> kg	<u> </u> kg	<u> </u> kg	<u> </u> kg

Welches Tier fehlt? Zeichne ein.



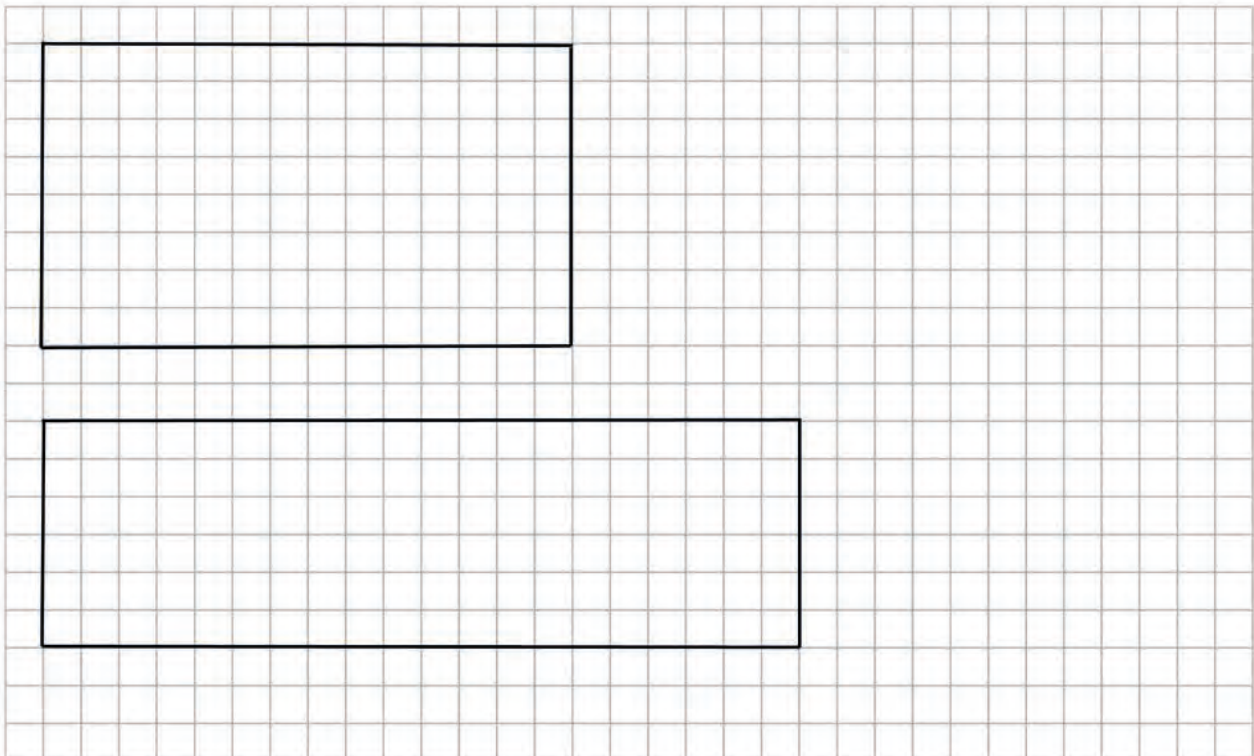
Was wiegt etwa 1 kg? Zeichne und schreibe.

Miss die Teile des Schiffes und trage die Ergebnisse ein.



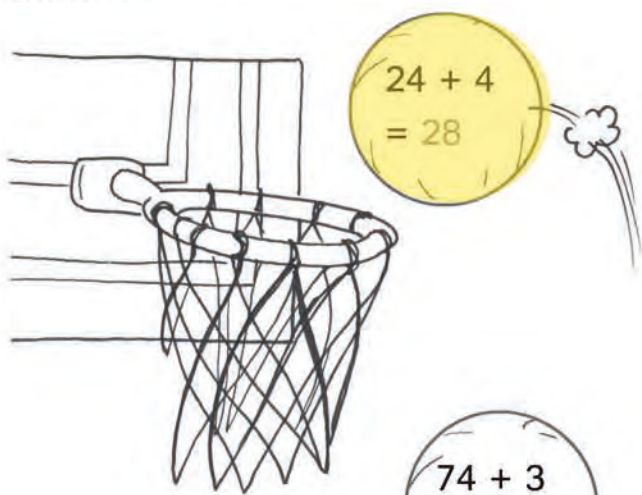
Zeichne zwei Rechtecke: Länge: 7 cm
Länge: 10 cm

Breite: 4 cm
Breite: 3 cm



Zeichne und miss Dinge auf deinem Tisch.

Rechne.



$$24 + 4 = 28$$

$$30 + 7 = 37$$

$$70 + 9 = 79$$

$$50 + 1 = 51$$

$$74 + 3 = 77$$

$$9 + 51 = 60$$

$$47 + 30 = 77$$

$$80 + 3 = 83$$

$$57 + 7 = 84$$

$$40 + 32 = 72$$

$$39 + 60 = 99$$

$$27 + 40 = 67$$


$$99 + 6 = 105$$

$$60 + 12 = 72$$

$$33 + 11 = 44$$

$$30 + 19 = 49$$

$$65 + 5 = 70$$



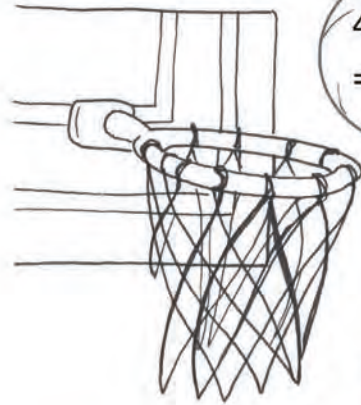
$$88 + 50 = 138$$

$$68 + 10 = 78$$



Die Bälle mit einem geraden Ergebnis treffen in den Korb. Male sie aus.

Rechne.



$$\begin{array}{r} 48 - 9 \\ = 39 \end{array}$$

$$\begin{array}{r} 50 + 17 \\ = 67 \end{array}$$

$$\begin{array}{r} 82 - 50 \\ = 32 \end{array}$$

$$\begin{array}{r} 20 + 42 \\ = 62 \end{array}$$

$$\begin{array}{r} 63 - 13 \\ = 50 \end{array}$$

$$\begin{array}{r} 43 + 7 \\ = 50 \end{array}$$

$$\begin{array}{r} 57 - 9 \\ = 48 \end{array}$$

$$\begin{array}{r} 100 - 15 \\ = 85 \end{array}$$

$$\begin{array}{r} 73 + 6 \\ = 79 \end{array}$$

$$\begin{array}{r} 90 + 13 \\ = 103 \end{array}$$

$$\begin{array}{r} 8 + 22 \\ = 30 \end{array}$$

$$\begin{array}{r} 37 - 20 \\ = 17 \end{array}$$

$$\begin{array}{r} 20 + 50 \\ = 70 \end{array}$$

$$\begin{array}{r} 91 - 8 \\ = 83 \end{array}$$

$$\begin{array}{r} 47 + 7 \\ = 54 \end{array}$$

$$\begin{array}{r} 50 + 25 \\ = 75 \end{array}$$

$$\begin{array}{r} 78 - 9 \\ = 69 \end{array}$$

$$\begin{array}{r} 35 + 35 \\ = 70 \end{array}$$

$$\begin{array}{r} 100 - 9 \\ = 91 \end{array}$$

$$\begin{array}{r} 74 - 30 \\ = 44 \end{array}$$

$$\begin{array}{r} 29 + 5 \\ = 34 \end{array}$$

$$\begin{array}{r} 57 + 30 \\ = 87 \end{array}$$

$$\begin{array}{r} 98 + 5 \\ = 103 \end{array}$$

$$\begin{array}{r} 62 - 9 \\ = 53 \end{array}$$

$$\begin{array}{r} 15 + 45 \\ = 60 \end{array}$$

$$\begin{array}{r} 43 - 4 \\ = 39 \end{array}$$

$$\begin{array}{r} 84 + 20 \\ = 104 \end{array}$$



$$\begin{array}{r} 41 - 40 \\ = 1 \end{array}$$

$$\begin{array}{r} 38 - 6 \\ = 32 \end{array}$$






$$\begin{array}{r} 76 + 8 \\ = 84 \end{array}$$




Schreibe für ein anderes Kind 20 weitere Rechnungen auf.



Ergänze die fehlenden Zahlen.



Schreibe passende Zahlen in diese Mauer.











Um diese Mauer herum gibt es viele Tiere. Zeichne sie.





Zeichne weitere Zahlenmauern.

Ergänze die fehlenden Zahlen.



Schreibe passende Zahlen in diese Mauer.



 Zeichne weitere Zahlenmauern.

Fülle die Lücken

The illustration shows a village scene with several buildings and trees, each containing a math problem. The buildings are houses, a barn, a schoolhouse, and a garage. The trees are large and stylized. The scene includes a fence, a swing set, a dog, and a person walking.

House 1 (Top Left): Roof: 34. Grid:

22	12
10	24
5	29
11	23

Tree 1 (Top Center): Roof: 28. Grid:

22	6

Barn (Top Right): Roof: 70. Grid:

20	50
64	6
35	35

House 2 (Middle Left): Roof: 53. Grid:

40	13
30	23
45	8

Schoolhouse (Middle Center): Roof: 81. Grid:

21	60
51	30
70	11

Barn (Middle Right): Roof: 100. Grid:

50	50
88	12

Garage (Bottom Center): Roof: 67. Grid:

20	17	10	
47	50	57	

Tree 2 (Bottom Right): Roof: 98. Grid:

Zeichne ein 50er-Haus.

Schreibe die passende Rechnung unter das Bild.

$6 \cdot 2 = 12$
$3 \cdot 4 = 12$
$8 \cdot 8 = 64$

$5 \cdot 4 = 20$
$7 \cdot 8 = 56$
$5 \cdot 2 = 10$

$7 \cdot 2 = 14$
$4 \cdot 2 = 8$
$9 \cdot 4 = 36$

$3 \cdot 8 = 24$
$6 \cdot 4 = 24$
$4 \cdot 8 = 32$

Zeichne das passende Bild über die Rechnung.

$2 \cdot 8 = 16$

$3 \cdot 2 = 6$

$4 \cdot 4 = 16$

$5 \cdot 8 = 40$




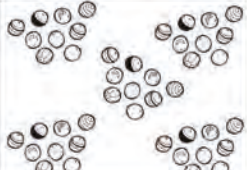








Umkreise die Ergebnisse
in der Hundertertafel
mit Farbstift:
die 2-er-Zahlen rot,
die 4-er-Zahlen pink,
die 8-er-Zahlen braun.

1	2	3	4	5	6	7	8	9	10
11	12	13	14	15	16	17	18	19	20
21	22	23	24	25	26	27	28	29	30
31	32	33	34	35	36	37	38	39	40
41	42	43	44	45	46	47	48	49	50
51	52	53	54	55	56	57	58	59	60
61	62	63	64	65	66	67	68	69	70
71	72	73	74	75	76	77	78	79	80
81	82	83	84	85	86	87	88	89	90
91	92	93	94	95	96	97	98	99	100






Zeichne 3 weitere Malrechnungen.

Schreibe die passende Rechnung unter das Bild.

			
$5 \cdot 3 = 15$	$2 \cdot 10 = 20$	$4 \cdot 6 = 24$	$5 \cdot 9 = 45$
			
$3 \cdot 8 = 24$	$8 \cdot 2 = 16$	$8 \cdot 3 = 24$	$3 \cdot 10 = 30$
			
$4 \cdot 9 = 36$	$2 \cdot 6 = 12$	$5 \cdot 8 = 40$	$1 \cdot 9 = 9$

Zeichne das passende Bild unter die Rechnung.

$3 \cdot 3 = \underline{9}$	$6 \cdot 2 = \underline{12}$	$1 \cdot 10 = \underline{10}$
		

Rechne:

$5 \cdot 7 = \underline{35}$

$9 \cdot 3 = \underline{27}$

$4 \cdot 6 = \underline{24}$

$6 \cdot 4 = \underline{24}$

$2 \cdot 8 = \underline{16}$

$3 \cdot 10 = \underline{30}$

$7 \cdot 9 = \underline{63}$

$10 \cdot 2 = \underline{20}$

$2 \cdot 9 = \underline{18}$

$4 \cdot 6 = \underline{24}$

$3 \cdot 5 = \underline{15}$

$5 \cdot 4 = \underline{20}$



Zeichne 5 weitere Malrechnungen.



Rechne, suche die Resultate im Bild und male sie in der angegebenen Farbe aus.

grün

$$18 : 2 = \underline{9}$$

$$60 - 6 = \underline{54}$$

$$9 \cdot 3 = \underline{27}$$

$$23 + 11 = \underline{34}$$

orange

$$51 - 8 = \underline{43}$$

$$16 : 2 = \underline{8}$$

$$37 - 20 = \underline{17}$$

$$6 \cdot 7 = \underline{42}$$

braun

$$15 : 3 = \underline{5}$$

$$73 - 63 = \underline{10}$$

$$9 + 6 = \underline{15}$$

$$14 : 2 = \underline{7}$$

violett

$$20 + 18 = \underline{38}$$

$$9 \cdot 8 = \underline{72}$$

$$3 \cdot 15 = \underline{45}$$

$$103 - 4 = \underline{99}$$

rot

$$78 + 7 = \underline{85}$$

$$2 \cdot 50 = \underline{100}$$

$$7 \cdot 9 = \underline{63}$$

$$39 - 20 = \underline{19}$$

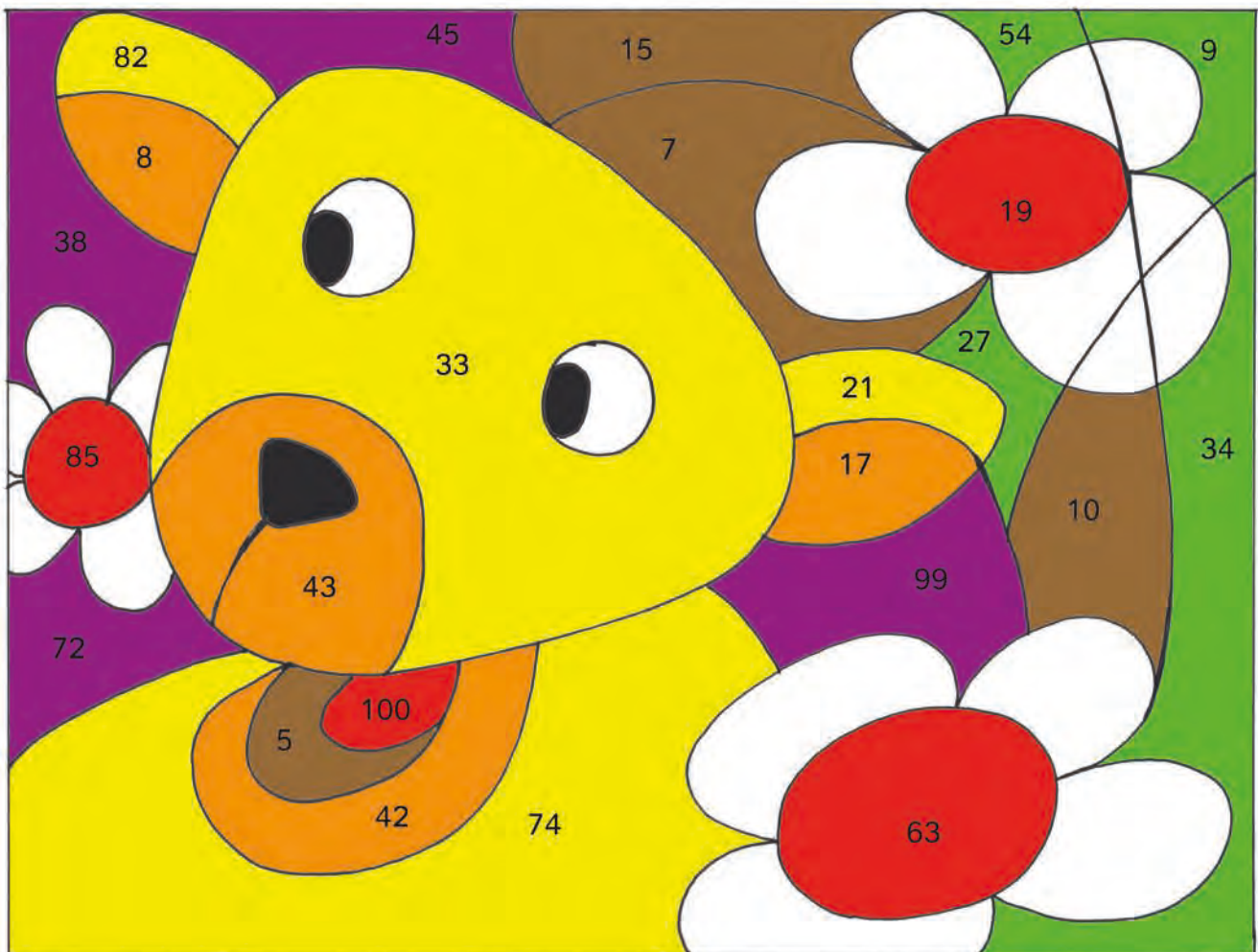
gelb

$$3 \cdot 7 = \underline{21}$$

$$79 + 3 = \underline{82}$$

$$66 : 2 = \underline{33}$$

$$83 - 9 = \underline{74}$$



Zeichne ein einfaches Rechenbild für ein anderes Kind.

Rechne und male die Resultate in der angegebenen Farbe aus.

grün

$$\begin{aligned} 2 \cdot 16 &= \underline{32} \\ 63 + 9 &= \underline{72} \\ 110 - 13 &= \underline{97} \\ 9 \cdot 5 &= \underline{45} \\ 99 + 5 &= \underline{104} \end{aligned}$$

braun

$$\begin{aligned} 45 : 5 &= \underline{9} \\ 22 - 7 &= \underline{15} \\ 64 : 8 &= \underline{8} \\ 20 : 2 &= \underline{10} \\ 18 + 5 &= \underline{23} \end{aligned}$$

gelb

$$\begin{aligned} 12 : 2 &= \underline{6} \\ 9 \cdot 9 &= \underline{81} \\ 40 + 13 &= \underline{53} \\ 50 - 13 &= \underline{37} \\ 100 - 22 &= \underline{78} \end{aligned}$$

grün

$$\begin{aligned} 39 + 8 &= \underline{47} \\ 97 - 17 &= \underline{80} \\ 3 \cdot 11 &= \underline{33} \\ 7 \cdot 9 &= \underline{63} \\ 40 : 10 &= \underline{4} \end{aligned}$$

rot

$$\begin{aligned} 73 - 4 &= \underline{69} \\ 9 : 3 &= \underline{3} \\ 75 + 25 &= \underline{100} \\ 8 \cdot 7 &= \underline{56} \\ 100 - 25 &= \underline{75} \end{aligned}$$

orange

$$\begin{aligned} 55 - 44 &= \underline{11} \\ 21 : 3 &= \underline{7} \\ 7 \cdot 3 &= \underline{21} \\ 25 : 5 &= \underline{5} \\ 110 - 80 &= \underline{30} \end{aligned}$$



Zeichne ein einfaches Rechenbild für ein anderes Kind.

Finde für jedes Bild die richtige Zahl.

















⇒	+ + + = <table border="1" style="display: inline-table; vertical-align: middle;"><tr><td style="text-align: center;">61</td></tr></table>	61	<table border="1" style="display: inline-table; vertical-align: middle;"> <tr><td style="text-align: center;"></td><td style="text-align: center;"><u>20</u></td></tr> <tr><td style="text-align: center;"></td><td style="text-align: center;"><u>11</u></td></tr> <tr><td style="text-align: center;"></td><td style="text-align: center;"><u>15</u></td></tr> <tr><td style="text-align: center;"></td><td style="text-align: center;"><u>10</u></td></tr> <tr><td style="text-align: center;"></td><td style="text-align: center;"><u>40</u></td></tr> </table>		<u>20</u>		<u>11</u>		<u>15</u>		<u>10</u>		<u>40</u>
	61												
		<u>20</u>											
		<u>11</u>											
		<u>15</u>											
	<u>10</u>												
	<u>40</u>												
+ + + = <table border="1" style="display: inline-table; vertical-align: middle;"><tr><td style="text-align: center;">80</td></tr></table>	80												
80													
+ + + = <table border="1" style="display: inline-table; vertical-align: middle;"><tr><td style="text-align: center;">53</td></tr></table>	53												
53													
+ + + = <table border="1" style="display: inline-table; vertical-align: middle;"><tr><td style="text-align: center;">91</td></tr></table>	91												
91													
+ + + = <table border="1" style="display: inline-table; vertical-align: middle;"><tr><td style="text-align: center;">45</td></tr></table>	45												
45													







⇒	+ + + = <table border="1" style="display: inline-table; vertical-align: middle;"><tr><td style="text-align: center;">64</td></tr></table>	64	<table border="1" style="display: inline-table; vertical-align: middle;"> <tr><td style="text-align: center;"></td><td style="text-align: center;"><u>10</u></td></tr> <tr><td style="text-align: center;"></td><td style="text-align: center;"><u>25</u></td></tr> <tr><td style="text-align: center;"></td><td style="text-align: center;"><u>20</u></td></tr> <tr><td style="text-align: center;"></td><td style="text-align: center;"><u>22</u></td></tr> <tr><td style="text-align: center;"></td><td style="text-align: center;"><u>13</u></td></tr> </table>		<u>10</u>		<u>25</u>		<u>20</u>		<u>22</u>		<u>13</u>
	64												
		<u>10</u>											
		<u>25</u>											
		<u>20</u>											
	<u>22</u>												
	<u>13</u>												
+ + + = <table border="1" style="display: inline-table; vertical-align: middle;"><tr><td style="text-align: center;">85</td></tr></table>	85												
85													
+ + + = <table border="1" style="display: inline-table; vertical-align: middle;"><tr><td style="text-align: center;">40</td></tr></table>	40												
40													
+ + + = <table border="1" style="display: inline-table; vertical-align: middle;"><tr><td style="text-align: center;">53</td></tr></table>	53												
53													
+ + + = <table border="1" style="display: inline-table; vertical-align: middle;"><tr><td style="text-align: center;">70</td></tr></table>	70												
70													

Erfinde ein weiteres Rechenrätsel mit Tieren.































Finde für jedes Bild die richtige Zahl







→

	+		+		+		+		=	120
	+		+		+		+		=	90
	+		+		+		+		=	100
	+		+		+		+		=	98
	+		+		+		+		=	108
	+		+		+		+		=	94

	<u>14</u>
	<u>10</u>
	<u>8</u>
	<u>20</u>
	<u>30</u>
	<u>25</u>

→


	+		+		+		+		=	90
	+		+		+		+		=	80
	+		+		+		+		=	50
	+		+		+		+		=	94
	+		+		+		+		=	100
	+		+		+		+		=	94

	<u>14</u>
	<u>20</u>
	<u>40</u>
	<u>10</u>
	<u>30</u>
	<u>15</u>



Erfinde zwei weitere Rechenrätsel.

Mia und Erik leben auf dem Bauernhof. Sie lösen Rätsel.



1) Mia sagt: „Wir haben 11 Kühe. Wie viele Beine sind das?“

Rechnung: $11 \cdot 4 = 44$. Es sind 44 Beine.

2) Erik sagt: „Wir haben 7 Schafe. Wie viele Beine sind das?“

Rechnung: $7 \cdot 4 = 28$. Es sind 28 Beine.

3) Erik meint: „Ich liebe unsere Pferde. Ich zähle 12 Pferdebeine.“

Rechnung: $12 : 4 = 3$. Es sind 3 Pferde.

4) Mia mag die ganz kleinen Tiere. Im Garten findet sie 7 Marienkäfer, 3 Maikäfer und 20 Kartoffelkäfer „So viele Kartoffelkäfer!“ denkt sie. „Da wird Papa keine Freude haben“.



Rechnung: $7 + 3 + 20 = 30$ Käfer, $30 \cdot 6 = 180$

Es sind 180 Käferbeine.



5) Erik hasst Spinnen. Mia fängt 5 Spinnen und legt sie in Eriks Bett.

Rechnung: $5 \cdot 8 = 40$. Es sind 40 Spinnenbeine.

6) Im Hühnerhof gibt es viel Federvieh: 5 Hühner, 10 Küken und 1 Hahn.
Wie viele Beine sind das?

Rechnung: $5 + 10 + 1 = 16$, $16 \cdot 2 = 32$

Es sind 32 Beine.

7) Wie viele Tiere (ohne Käfer und Spinnen) leben auf dem Bauernhof?

Rechnung: $11 + 7 + 3 + 16 = 37$

Es sind 37 Tiere.



Erfinde weitere Bauernhofrätsel.

1 Golddukat = 100 Silberlinge
 1 Gd = 100 Sl



Die Piraten zählen ihr Geld. Prüfe, ob sie richtig rechnen.

1) Trox hat drei Haufen: Auf dem ersten liegen 53 Sl, auf dem zweiten 8 Sl und auf dem dritten 40 Sl. „Hurra“, schreit er, „ich habe einen ganzen Golddukat!“

Rechnung: $53 + 8 + 40 = 101$ Stimmt Stimmt nicht

2) Max sagt: „Gestern hatte ich 28 Sl in meinem Beutel. Heute habe ich dem König 2 Gd und 72 Sl gestohlen. Jetzt habe ich genau 3 Golddukat.“

Rechnung: $72 \text{ Sl} + 28 \text{ Sl} = 100 \text{ Sl} = 1 \text{ Gd}$ Stimmt Stimmt nicht
 $1 \text{ Gd} + 2 \text{ Gd} = 3 \text{ Gd}$

3) Lex rechnet: „54 Sl vom letzten Raubzug, 16 Sl waren noch in meinem Beutel und Max schuldet mir 1 Gd. Dann habe ich 1 Golddukat und 80 Silberlinge!“

Rechnung: $54 \text{ Sl} + 16 \text{ Sl} + 1 \text{ Gd} = 1 \text{ Gd} + 70 \text{ Sl}$ Stimmt Stimmt nicht

4) Die Piraten haben nicht nur Geld gestohlen. Max hat 12 Armreifen, 8 Halsketten und 35 Fingerringe. Trox hat 8 Armreifen, 22 Halsketten und 15 Fingerringe. Lex hat 20 Armreifen, 17 Halsketten und 10 Fingerringe. Alle drei Piraten haben zusammen

$12 + 8 + 20 = 40$ Reifen, $8 + 22 + 17 = 47$ Ketten und $35 + 15 + 10 = 60$ Ringe.

5) Auf einer Insel haben die Piraten Tiere gefangen: 25 Kakadus, 20 Affen, 13 Schildkröten und 10 Schlangen. Max hat nicht gut aufgepasst, 10 Kakadus konnten wegfliegen. Wie viele Tiere bleiben den Piraten zum Verkauf?

Rechnung: $25 + 20 + 13 + 10 = 68 - 10 = 58$. Es sind 58 Tiere.



Die Piraten verkaufen die Tiere. Schreibe passende Rechnungen auf.