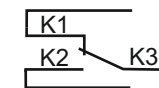
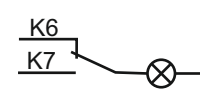
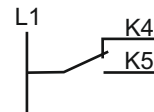
**Aufgabe:**

Kreuzen Sie die richtigen Leiter an:

bei Kreuz-  
schaltungbei Sparwechsel-  
schaltungWelche Leiter befinden sich zwischen: **-Q4 und -X4**
 L1    N    PE    SLD1 (E1)    SLD2 (E2)    K1 (Q1)    K2 (Q1)    K3 (Q1)    K4 (Q2)    K5 (Q2)    K6 (Q5)    K7 (Q5)
Welche Leiter befinden sich zwischen: **-X2 und -X3**
 L1    N    PE    SLD1 (E1)    SLD2 (E2)    K1 (Q1)    K2 (Q1)    K3 (Q1)    K4 (Q2)    K5 (Q2)    K6 (Q5)    K7 (Q5)
Welche Leiter befinden sich zwischen: **-X3 und -Q3**
 L1    N    PE    SLD1 (E1)    SLD2 (E2)    K1 (Q1)    K2 (Q1)    K3 (Q1)    K4 (Q2)    K5 (Q2)    K6 (Q5)    K7 (Q5)
Welche Leiter befinden sich zwischen: **-X1 und -Q1**
 L1    N    PE    SLD1 (E1)    SLD2 (E2)    K1 (Q1)    K2 (Q1)    K3 (Q1)    K4 (Q2)    K5 (Q2)    K6 (Q5)    K7 (Q5)

Datum:

Klasse:

BearbeiterIn:

Titel:

Kombischaltung – Schaltungsanalyse

Blattnr.: