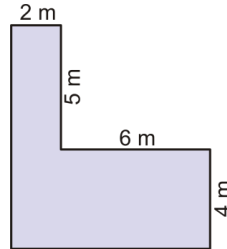
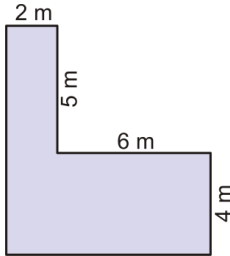
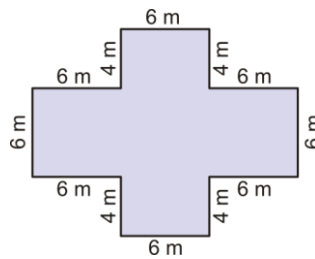
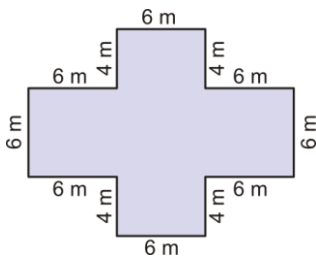


Flächeninhalt zusammengesetzter Figuren

1. Berechne den Flächeninhalt folgender Figur
a) durch Zerlegen in Rechtecke, **b)** durch Umschreiben eines geeigneten Rechtecks.
 Ergänze die benötigten Seitenlängen.



2. Berechne den Flächeninhalt folgender Figur
a) durch Zerlegen in Rechtecke, **b)** durch Umschreiben eines geeigneten Rechtecks.



3. Berechne den Flächeninhalt folgender Figur
a) durch Zerlegen in Rechtecke, **b)** durch Umschreiben eines geeigneten Rechtecks.

