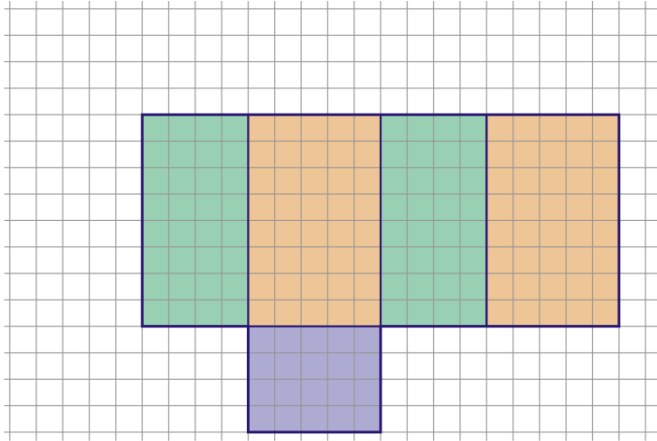


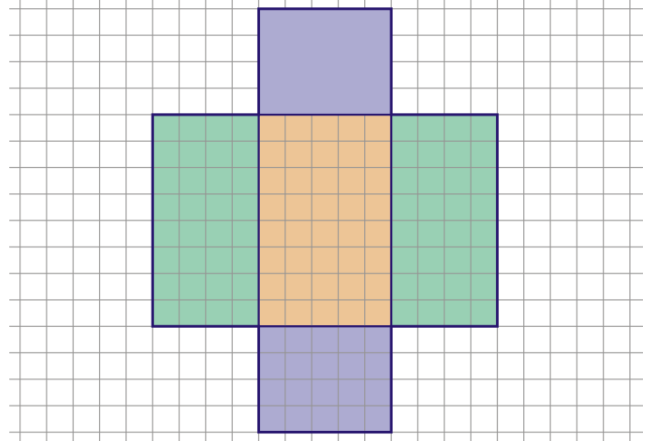
Netze von Quadern

1. Ergänze die abgebildete Figur so, dass ein Netz eines Quaders entsteht.

a)



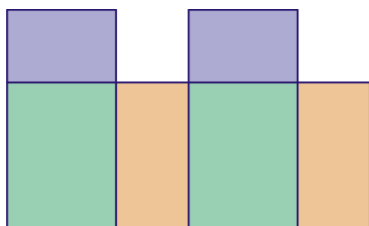
b)



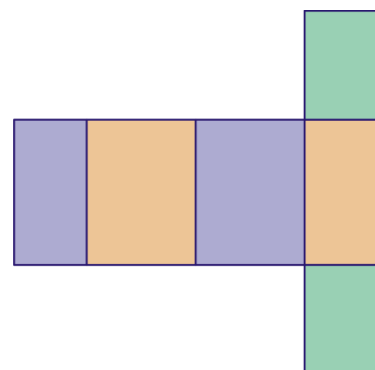
2. Die folgenden Figuren stellen kein Netz eines Quaders dar. Ordne die Figuren der passenden Erklärung zu.

	Figur
Gegenüberliegende Flächen sind nicht deckungsgleich.	
Die Anzahl der Begrenzungsflächen ist zu groß.	
Boden- und Deckfläche sind auf verschiedenen Seiten des Mantels angeordnet.	
Die Anzahl der Begrenzungsflächen ist zu klein.	
Zwei gegenüberliegende Begrenzungsflächen sind auf der gleichen Seite des Mantels angeordnet.	

Figur A:



Figur B:



Figur C:

