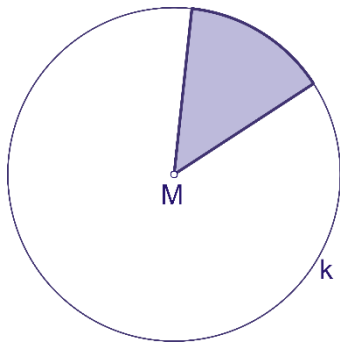
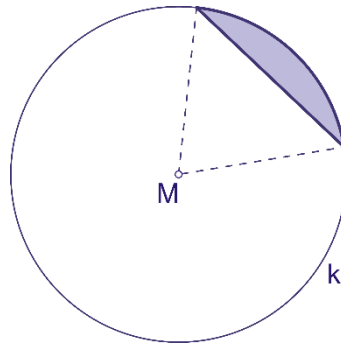


Teile der Kreisfläche

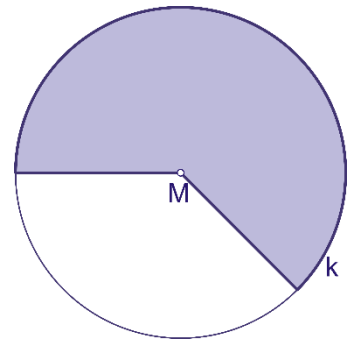
1. Benenne die markierten Kreisteile.



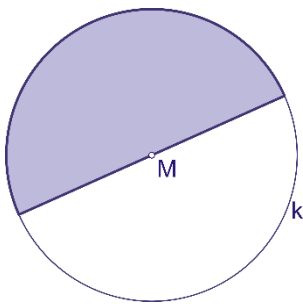
a) _____



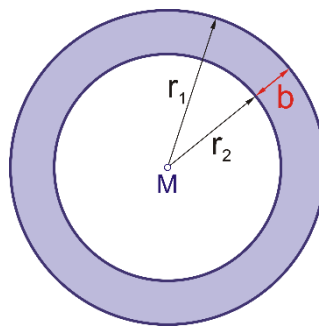
b) _____



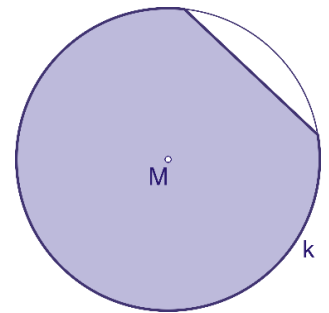
c) _____



d) _____

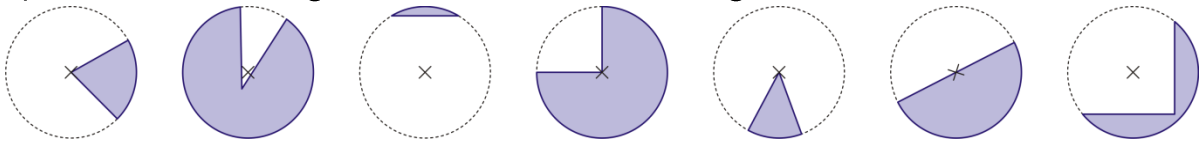


e) _____



f) _____

2. a) Kreuze alle Abbildungen an, in denen ein Kreissektor gefärbt ist.



- A B C D E F G

b) Kreuze alle Abbildungen an, in denen ein Kreissegment gefärbt ist.

- A B C D E F G

3. Kreuze die richtige(n) Aussage(n) an.

A <input type="checkbox"/>	Ein Kreissegment wird von einer Sehne und einem Kreisbogen begrenzt.
B <input type="checkbox"/>	Die Breite eines Kreisringes ist durch die Angabe der Radien der beiden Begrenzungs-kreise eindeutig bestimmt.
C <input type="checkbox"/>	Ein Kreissektor wird von zwei Radien und einem Kreisbogen begrenzt.
D <input type="checkbox"/>	Die beiden Kreise eines Kreisrings haben denselben Mittelpunkt.
E <input type="checkbox"/>	Ein Kreissegment ist immer kleiner als ein Halbkreis.