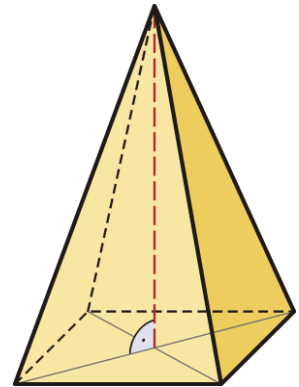

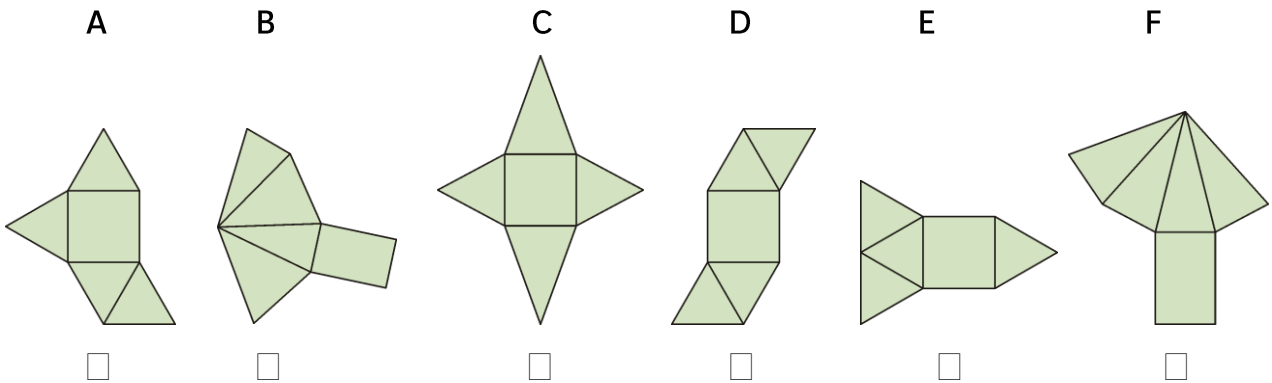


# Die Pyramide – Eigenschaften und Darstellung

- In der Abbildung ist der Schrägriss einer geraden quadratischen Pyramide dargestellt. Beschrifte alle Basiskanten mit  $a$ , alle Seitenkanten mit  $s$  und die Höhe mit  $h$ .
- Skizziere einen Schrägriss einer geraden rechteckigen Pyramide.



- Kreuze die Figuren an, die ein Netz einer geraden vierseitigen Pyramide sein könnten.



- Gib an, ob es sich um eine gerade oder eine schiefe Pyramide handelt.

