

Abstandsbestimmungen

1. Ermittle den Abstand d der beiden Punkte.

a)

X
A

B
X

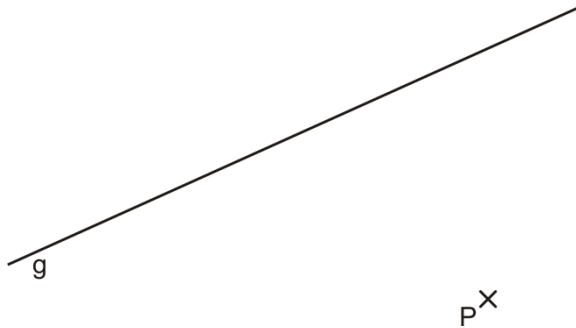
b)

P
X

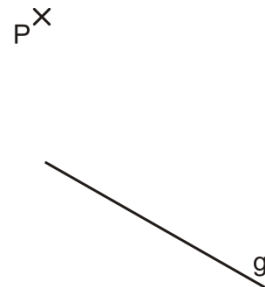
X
Q

2. Ermittle den Abstand d des Punktes P von der Geraden g .

a)

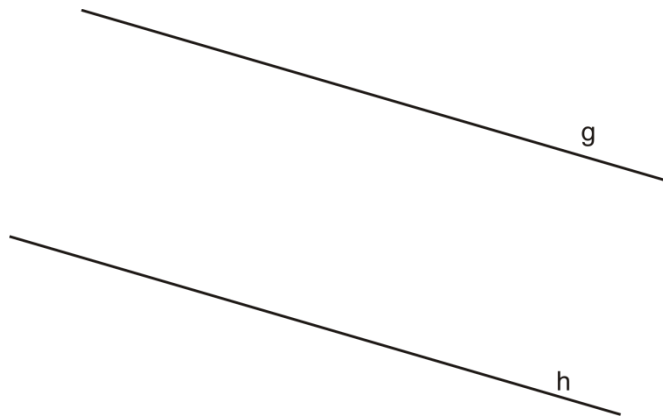


b)

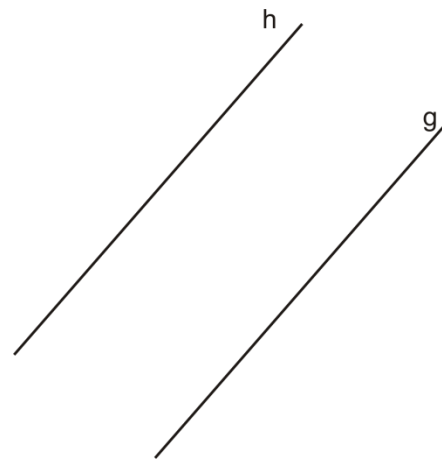


3. Ermittle den Abstand d der parallelen Geraden g und h .

a)

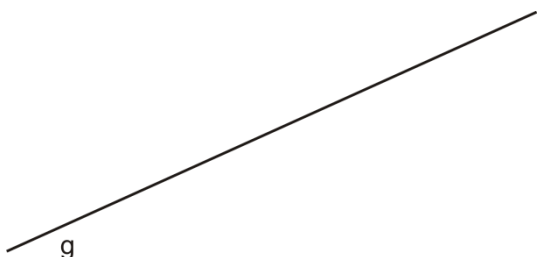


b)



4. Zeichne möglichst viele Punkte, die von der Geraden g den Abstand d haben.

a) $d = 2 \text{ cm}$



b) $d = 1,5 \text{ cm}$

