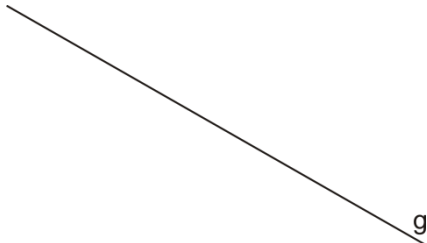


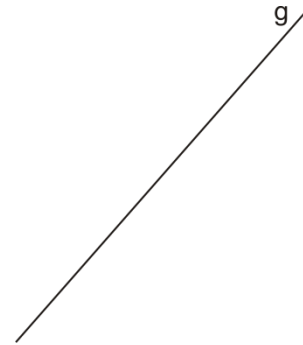
Zeichnen von normalen und parallelen Geraden

1. Zeichne zwei Geraden, die zur Geraden g normal sind.

a)

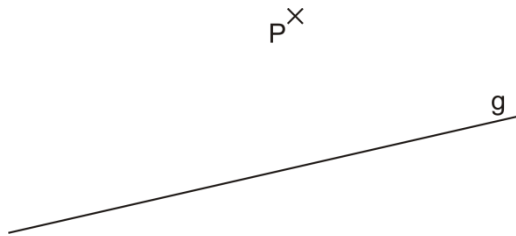


b)

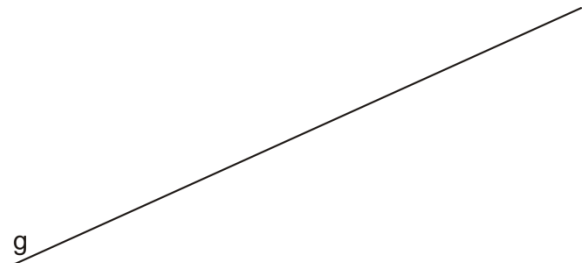


2. Zeichne eine Gerade, die zur Geraden g normal steht und durch den Punkt P geht.

a)

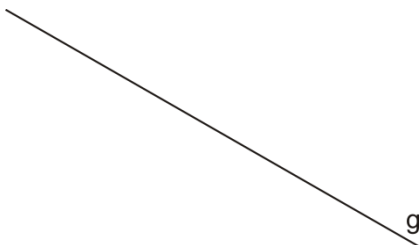


b)

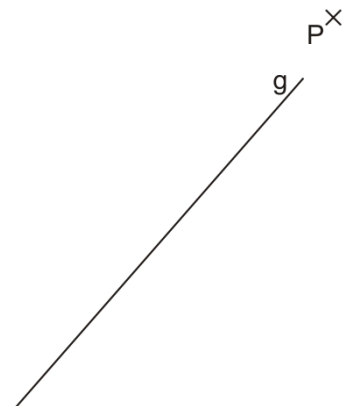


3. Zeichne zwei Geraden, die zur Geraden g parallel sind.

a)

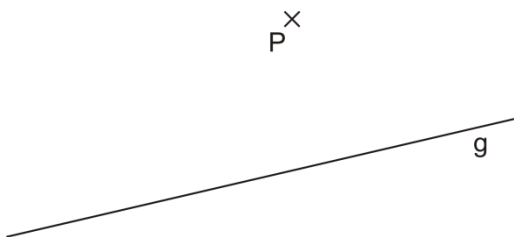


b)



4. Zeichne eine Gerade, die zur Geraden g parallel ist und durch den Punkt P geht.

a)



b)

