

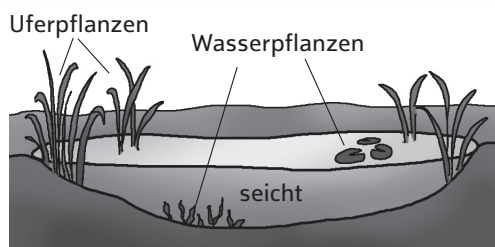
UNTERSCHIEDLICHE GEWÄSSER

➔ Arbeitsauftrag 1

Beschrifte die drei Abbildungen mithilfe der Beschreibung und des Bestimmungsschlüssels.

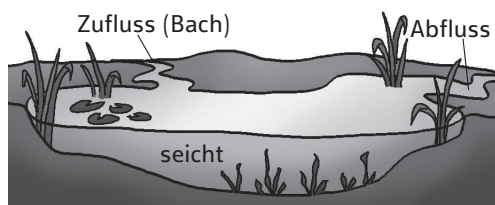
Kleiner „Bestimmungsschlüssel“ für Gewässer

1. • Das Wasser fließt? → Es ist ein **Fließgewässer** (Bach, Fluss, Strom).
 - Das Wasser fließt nicht sichtbar? → Es ist ein **stehendes Gewässer** (Stillgewässer). → 2
2. • Das Gewässer ist so tief, dass am Boden keine Pflanzen mehr wachsen? → 3
 - Am gesamten Boden wachsen Pflanzen? → 4
3. • natürlich entstanden? → **See**
 - künstlich angelegt? → **Stausee**
4. • von Bach „gespeist“? (kann nicht austrocknen) → 5
 - nur von Regenwasser, Grundwasser oder Gartenschlauch „gespeist“? (kann austrocknen) → 6
5. • natürlich entstanden? → **Weiherr**
 - künstlich angelegt? → **Teich**
6. • natürlich entstanden? → **Tümpel**
 - künstlich angelegt? → **Gartentümpel**



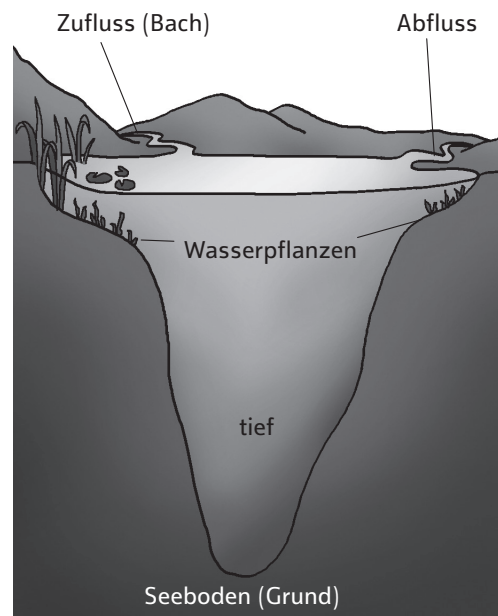
1.

Dieses stehende Gewässer wurde künstlich angelegt und muss in trockenen Zeiten mit dem Gartenschlauch aufgefüllt werden. An seinem Grund können Pflanzen wachsen. Die Besitzer sagen oft liebevoll „mein Biotop“ dazu.



2.

Dieses natürliche Stillgewässer entsteht, wenn ein Bach eine Bodensenke füllt, bevor er weiterfließt. Es ist so seicht, dass das Sonnenlicht den mit Pflanzen bewachsenen Boden erreicht. Dort gibt es eine große Vielfalt von Tier- und Pflanzenarten.



3.

Dieses Gewässer ist natürlich entstanden und hat einen Zufluss und einen Abfluss. Es ist so tief, dass das Sonnenlicht nicht bis zum Boden gelangt. Daher ist der Boden nur im Uferbereich mit Pflanzen bewachsen.