

Name: _____

Datum: _____

Ferien auf dem Bauernhof

- 1 Lina und Jonas haben tolle Ferien auf dem Bauernhof. Sie besuchen die
 a) _____ und b) _____ auf der Weide und streicheln
 das zutrauliche c) _____ .

a)



$3 + 4 =$	_____	■
$18 + 1 =$	_____	■
$8 + 4 =$	_____	■
$10 + 0 =$	_____	■

b)

$3 + 3 =$	_____	■
$5 + 6 =$	_____	■
$6 + 6 =$	_____	■
$5 + 9 =$	_____	■
$13 + 4 =$	_____	■
$6 + 4 =$	_____	■

c)

$9 + 9 =$	_____	■
$9 + 8 =$	_____	■
$8 + 2 =$	_____	■
$1 + 7 =$	_____	■
$12 + 8 =$	_____	■



- 2 Die beiden dürfen dem Bauern bei seiner Arbeit helfen. Sie sammeln die
 a) _____ , stellen selbst b) _____ her und machen
 einen Ausflug mit dem c) _____ .

a)



$19 - 9 =$	_____	■
$18 - 2 =$	_____	■
$18 - 8 =$	_____	■
$13 - 5 =$	_____	■

b)

$16 - 9 =$	_____	■
$18 - 9 =$	_____	■
$14 - 8 =$	_____	■
$15 - 5 =$	_____	■

c)

$16 - 3 =$	_____	■
$17 - 9 =$	_____	■
$18 - 4 =$	_____	■
$12 - 5 =$	_____	■
$20 - 7 =$	_____	■
$19 - 4 =$	_____	■
$16 - 8 =$	_____	■



6	7	8	9	10	11	12	13	14	15	16	17	18	19	20
S	K	R	Ä	E	C	H	T	A	O	I	F	P	Ü	D

- 3 Was hast du in den Ferien erlebt? Berichte einem Partnerkind.

Name: _____

Datum: _____

Ferien am Meer



1 Melissa und Marcel verbringen ihre Ferien am Meer. Sie suchen a) _____ und b) _____ und verzieren damit ihre selbstgebaute c) _____.

a)



$8 : 4 =$	___	■
$5 \cdot 6 =$	___	■
$16 : 2 =$	___	■
$5 \cdot 9 =$	___	■
$36 : 6 =$	___	■
$32 : 4 =$	___	■

b)

$3 \cdot 1 =$	___	■
$6 \cdot 7 =$	___	■
$6 : 3 =$	___	■
$3 \cdot 7 =$	___	■
$49 : 7 =$	___	■
$2 \cdot 4 =$	___	■
$7 \cdot 8 =$	___	■
$24 : 4 =$	___	■

c)

$10 : 5 =$	___	■
$4 \cdot 9 =$	___	■
$6 : 1 =$	___	■
$20 : 5 =$	___	■
$30 : 3 =$	___	■
$7 \cdot 6 =$	___	■
$5 \cdot 3 =$	___	■
$8 \cdot 8 =$	___	■



2 Sie haben viel Spaß am a) _____. Die beiden b) _____ und entdecken viele bunte c) _____.

a)

$2 \cdot 1 =$	___	■
$6 \cdot 5 =$	___	■
$3 \cdot 5 =$	___	■
$6 \cdot 6 =$	___	■
$30 : 5 =$	___	■
$2 \cdot 2 =$	___	■

b)

$90 : 9 =$	___	■
$9 \cdot 4 =$	___	■
$28 : 7 =$	___	■
$4 \cdot 2 =$	___	■
$18 : 3 =$	___	■

c)

$9 \cdot 8 =$	___	■
$9 \cdot 5 =$	___	■
$4 : 2 =$	___	■
$7 \cdot 3 =$	___	■
$14 : 2 =$	___	■
$56 : 7 =$	___	■

2	3	4	6	7	8	10	15	21	30	36	42	45	56	64	72
S	M	D	N	H	E	B	R	C	T	A	U	I	L	G	F

3 Was hast du in den Ferien erlebt? Berichte einem Partnerkind.

Name: _____ Datum: _____

Europareise - spannende Fakten

- 1 Europas höchste Toilette ist auf dem
 a) _____ b) _____. Das ist
 ein Berg in Frankreich. Er ist 4810 c) _____
 hoch.



a)

$30 \cdot 4 =$	_____	<input type="checkbox"/>
$180 : 6 =$	_____	<input type="checkbox"/>
$600 : 10 =$	_____	<input type="checkbox"/>
$180 : 2 =$	_____	<input type="checkbox"/>

b)

$70 \cdot 8 =$	_____	<input type="checkbox"/>
$9 \cdot 90 =$	_____	<input type="checkbox"/>
$150 : 3 =$	_____	<input type="checkbox"/>
$420 : 7 =$	_____	<input type="checkbox"/>
$140 : 2 =$	_____	<input type="checkbox"/>

c)

$2 \cdot 60 =$	_____	<input type="checkbox"/>
$800 : 20 =$	_____	<input type="checkbox"/>
$450 : 5 =$	_____	<input type="checkbox"/>
$20 \cdot 2 =$	_____	<input type="checkbox"/>
$300 : 3 =$	_____	<input type="checkbox"/>

- 2 Das älteste Riesenrad (1897) steht in a) _____. Dieser Rummel heißt
 b) _____. Dort eröffnete 1933 die erste c) _____.

a)

$20 \cdot 4 =$	_____	<input type="checkbox"/>
$800 : 4 =$	_____	<input type="checkbox"/>
$360 : 9 =$	_____	<input type="checkbox"/>
$10 \cdot 6 =$	_____	<input type="checkbox"/>

b)

$80 \cdot 9 =$	_____	<input type="checkbox"/>
$800 : 8 =$	_____	<input type="checkbox"/>
$300 : 6 =$	_____	<input type="checkbox"/>
$270 : 3 =$	_____	<input type="checkbox"/>
$10 \cdot 4 =$	_____	<input type="checkbox"/>
$20 \cdot 5 =$	_____	<input type="checkbox"/>

c)

$70 \cdot 9 =$	_____	<input type="checkbox"/>
$20 \cdot 2 =$	_____	<input type="checkbox"/>
$50 \cdot 4 =$	_____	<input type="checkbox"/>
$420 : 70 =$	_____	<input type="checkbox"/>
$30 \cdot 3 =$	_____	<input type="checkbox"/>
$400 : 10 =$	_____	<input type="checkbox"/>
$700 : 7 =$	_____	<input type="checkbox"/>
$80 \cdot 7 =$	_____	<input type="checkbox"/>
$100 : 2 =$	_____	<input type="checkbox"/>
$8 \cdot 60 =$	_____	<input type="checkbox"/>
$360 : 6 =$	_____	<input type="checkbox"/>



6	30	40	50	60	70	80	90	100	120	200	480	560	630	720	810
S	O	E	A	N	C	W	T	R	M	I	H	B	G	P	L

- 3 Was hast du in den Ferien erlebt? Berichte einem Partnerkind.

Kompetenzen und Inhalt

Im August beginnt in den meisten Bundesländern ein neues Schuljahr. Gerade jetzt ist die Wiederholung und Festigung der im letzten Schuljahr erlernten Fertigkeiten wichtig.

Die vorliegenden Kopiervorlagen bieten für die Jahrgangsstufen 2 bis 4 eine Wiederholung grundlegender Fertigkeiten rund um das motivierende Thema „Sommerferien“.