

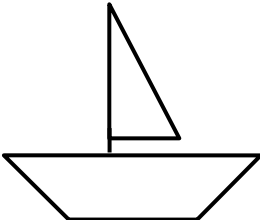






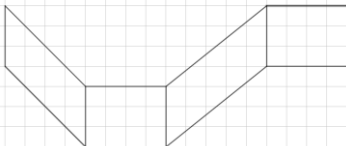


# Ein Thema – sechs Wege

## Vierecke

 <p><b>Sprachlich und kreativ</b></p>	 <p><b>Zusammen mit anderen</b></p>
<p><b>Beschreibe die Vierecke Parallelogramm, Raute, Deltoid und Trapez ohne folgende Worte zu verwenden:</b></p> <p>parallel, gegenüber, nebeneinander liegend, gleich lang</p>	<p><b>Blindes Zeichnen</b></p> <p>Diktiert euch gegenseitig eine Figur aus geometrischen Figuren, die ihr zuvor gezeichnet habt!</p> 
 <p><b>Natur(phänomene)</b></p>	 <p><b>Was wäre, wenn ...</b></p>
<p>Im Orionnebel gibt es einen Sternhaufen, der Trapez genannt wird. In der Abbildung siehst du seine vier hellsten Sterne.</p>  <p>Begründe, wie dieses Sternbild zu seinem Namen gekommen ist.</p>	<p>Was wäre, wenn Sportflächen (Fußballfeld, Volleyballfeld, Tennisplatz, ...) nicht rechteckig wären?</p> <p><b>Welche Vor- oder Nachteile würden sich dadurch für die Sportlerinnen und Sportler ergeben?</b></p>
 <p><b>Musikalisch-rhythmisch</b></p>	 <p><b>Visuell-räumlich</b></p>
<p><b>Komponiere eine Melodie nach deinem Geschmack mit bunten Rechtecken!</b></p> <p><a href="https://musiclab.chromeexperiments.com/Song-Maker/">https://musiclab.chromeexperiments.com/Song-Maker/</a></p> 	 <p>Das Körpernetz besteht aus den abgebildeten Rechtecken und Parallelogrammen. <b>Welche Vierecksform müssen die beiden fehlenden Seitenflächen haben? Probiere es aus!</b></p>