



1 Wie schwer sind die Gewichtssteine jeweils zusammen?



© Westermann Gruppe

2 Immer 1000 g. Ergänze. Wie viele Gramm fehlen bis zu einem Kilogramm?


- a) 500 g + _____ = 1 000 g
 100 g + _____ = 1 000 g
 200 g + _____ = 1 000 g
 400 g + _____ = 1 000 g
 700 g + _____ = 1 000 g
 600 g + _____ = 1 000 g

- b) 950 g + _____ = 1 000 g
 650 g + _____ = 1 000 g
 780 g + _____ = 1 000 g
 520 g + _____ = 1 000 g
 260 g + _____ = 1 000 g
 490 g + _____ = 1 000 g

Gewichte – Kilogramm und Gramm

Gewichte vergleichen

1 Setze ein. $>$ $<$ $=$



2 Setze ein. $>$ $<$ $=$

- a) 500 g $\frac{1}{2}$ kg b) 1000 g 1 kg c) 1 kg 5 g d) 1 kg 1 g
 490 g $\frac{1}{2}$ kg 650 g $\frac{1}{2}$ kg 1 kg 500 g $\frac{1}{4}$ kg 1 g
 250 g $\frac{1}{2}$ kg 185 g $\frac{1}{2}$ kg $\frac{1}{2}$ kg 800 g $\frac{1}{4}$ kg 100 g

3 Ordne. Beginne mit der kleinsten Gewichtsangabe.



1 g,

© Westermann Gruppe