


- 1** Hund Schnüff hat vor dem Kellerfenster Fußspuren entdeckt. Es waren mindestens zwei Einbrecher mit den Schuhgrößen 46 und 42. Die 40 bereits gefassten Verdächtigen haben folgende Schuhgrößen:

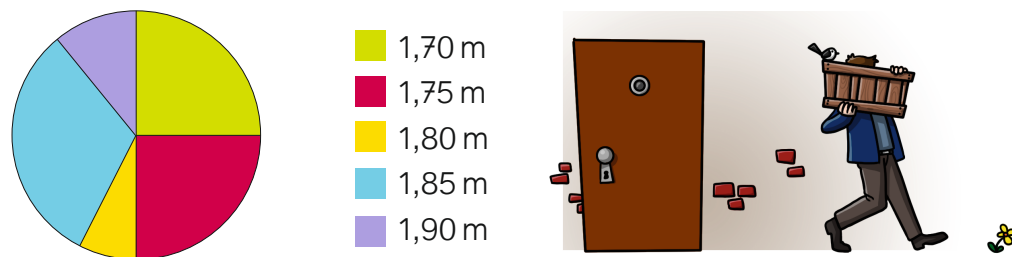


Wie viele der 40 bereits gefassten Verdächtigen kommen als Täter in Frage?

Antwort: _____

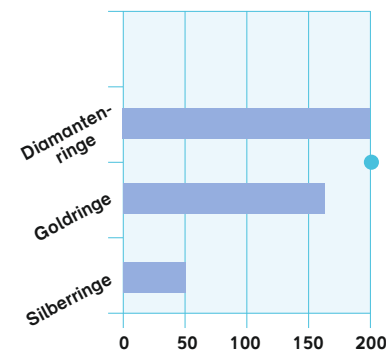
- 2** Augenzeugen berichten, dass die Einbrecher mindestens 1,80 m groß waren.

Die _____ bereits gefassten Verdächtigen mit den Schuhgrößen 42 oder 46 sind so groß:

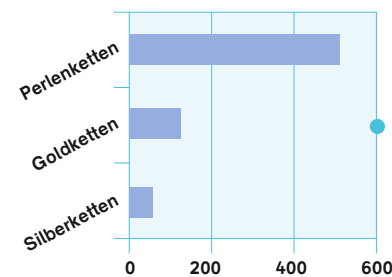


Es kommen _____ Personen als Täter in Frage.

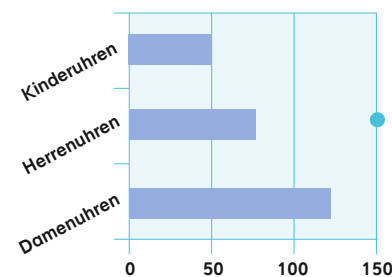
- 3** Die Detektive Schleich und Klein haben den gestohlenen Schmuck gefunden. Welche Tabelle gehört zu welchem Balkendiagramm? Verbinde mit Linien. Trage die Schmuckstücke passend in die Tabelle ein.



500	120	60



200	160	50



50	80	120

