






Tiere auf dem Bauernhof






Wie viele Tiere sind es?



Pferde		3
Hühner		
Katzen		
Kaninchen		

Schafe		
Tauben		
Ziegen		
Enten		

Kühe		
Hunde		
Schweine		

◀ Wer schaut nach links? Wer schaut nach rechts? ▶

	nach links ←	nach rechts →
Schafe	2	
Kühe		
Kaninchen		
Schweine		
Hunde		

	nach links ←	nach rechts →
Tauben		
Pferde		
Enten		
Hühner		
Katzen		