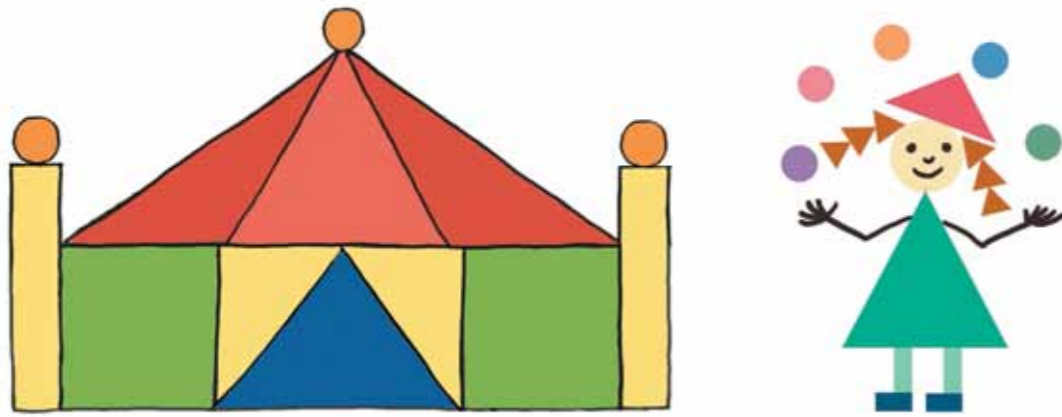
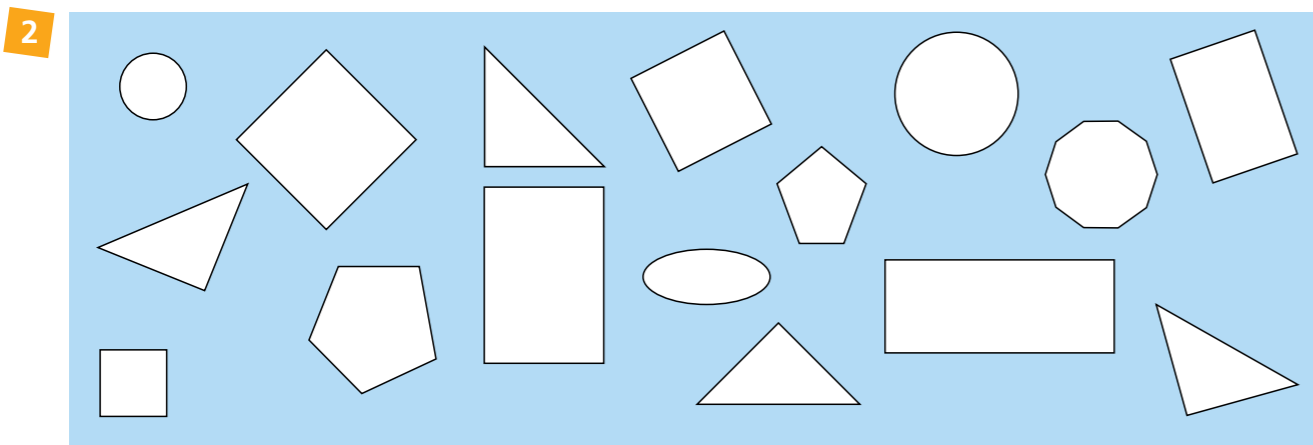







1 Wie viele Rechtecke, Quadrate, Dreiecke und Kreise erkennst du?

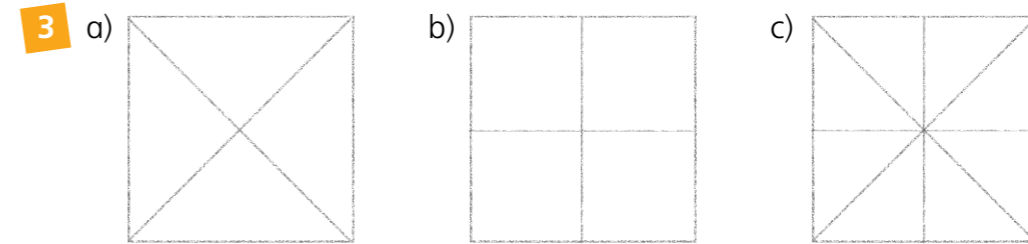


Es sind ____ Rechtecke, ____ Quadrate, ____ Dreiecke und ____ Kreise.






- a) Male aus: Rechtecke grün  Dreiecke blau  Quadrate rot 
- b) Zähle: Es sind ____ Rechtecke, ____ Dreiecke und ____ Quadrate.

Das kann ich   

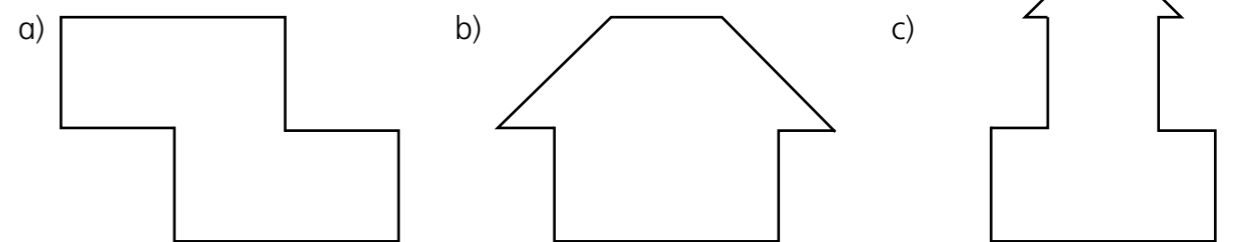


Wie viele Rechtecke, Dreiecke und Quadrate siehst du?




| |  |  |  |
|----|-------------------------------------------------------------------------------------|-------------------------------------------------------------------------------------|-------------------------------------------------------------------------------------|
| a) | | | |
| b) | | | |
| c) | | | |



4 Lege die Figuren mit Rechtecken, Dreiecken und Quadraten aus. Finde alle Lösungen.



| |  |  |  |
|-----------|---------------------------------------------------------------------------------------|---------------------------------------------------------------------------------------|---------------------------------------------------------------------------------------|
| 1. Lösung | 1 | 0 | 2 |
| 2. Lösung | | | |
| 3. Lösung | | | |
| 4. Lösung | | | |
| 5. Lösung | | | |
| 6. Lösung | | | |
| 7. Lösung | | | |
| 8. Lösung | | | |
| 9. Lösung | | | |

| |  |  |  |
|-----------|---------------------------------------------------------------------------------------|---------------------------------------------------------------------------------------|---------------------------------------------------------------------------------------|
| 1. Lösung | 1 | 2 | 1 |
| 2. Lösung | | | |
| 3. Lösung | | | |
| 4. Lösung | | | |
| 5. Lösung | | | |
| 6. Lösung | | | |

| |  |  |  |
|-----------|---------------------------------------------------------------------------------------|---------------------------------------------------------------------------------------|---------------------------------------------------------------------------------------|
| 1. Lösung | | | |
| 2. Lösung | | | |
| 3. Lösung | | | |
| 4. Lösung | | | |
| 5. Lösung | | | |
| 6. Lösung | | | |



Lassen Sie das Kind selbst mit den Rechtecken, Quadraten und Dreiecken Figuren legen oder denken Sie sich neue Figuren aus, die das Kind nachlegt.

Das kann ich   