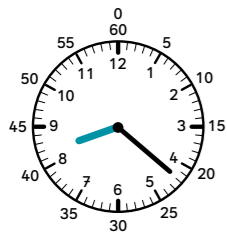



Schreibe beide Uhrzeiten auf.



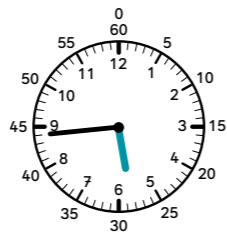
Uhr

Uhr



Uhr

Uhr



Uhr

Uhr



Uhr

Uhr



Uhr

Uhr



Uhr

Uhr



Uhr

Uhr



Uhr

Uhr



Male alle Felder mit den Lösungen von links aus.

