

Liebe Schülerinnen und Schüler,
 liebe Eltern, liebe Lehrkräfte,

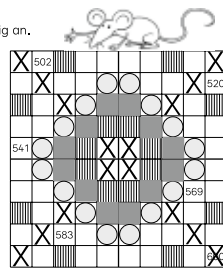
in diesem Teil sind die Lösungen
 aller Aufgaben auf verkleinerten Seiten
 zusammengestellt.

Viel Spaß und Erfolg mit
 „Rechne aus ... mit Katz und Maus“!



1 Male die Felder in der Hundertertafel farbig an.

- gelb
501, 510, 512, 519, 523, 528, 545, 546,
555, 556, 573, 578, 582, 589, 591, 600
- rot
515, 516, 524, 527, 533, 538, 542, 549,
552, 559, 563, 568, 574, 577, 585, 586
- grün
525, 526, 534, 537, 543, 548, 553, 558,
564, 567, 575, 576
- blau
503, 508, 521, 530, 535, 536, 544, 547,
554, 557, 565, 566, 571, 580, 593, 598



Ausschnitte aus Hundertertafeln. Ergänze die fehlenden Zahlen.

2 a)

743	744	745	746	747	748
753	754	755	756	757	758
763	764	765	766	767	768

 b)

975	976	977	978	979	980
985	986	987	988	989	990
995	996	997	998	999	1000

c)

474	475	476	477	478	479
484	485	486	487	488	489
494	495	496	497	498	499

 d)

333	334	335	336	337	338
343	344	345	346	347	348
353	354	355	356	357	358

3 a)

289	290
299	300

 b)

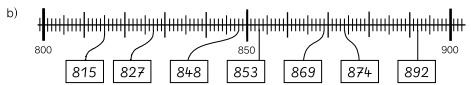
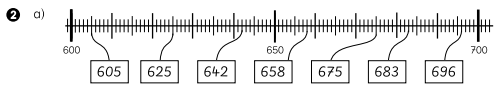
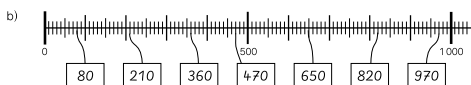
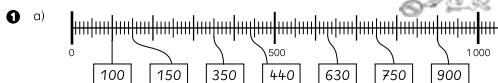
544	545	546
	555	

 c)

874	877	879			
883	884	886	887	888	889
892	894	895			899



Ergänze die fehlenden Zahlen.



3 Verbinde die Zahlen mit den Positionen am Zahlenstrahl.



4 Welche Zehnerzahlen liegen dazwischen? Schreibe auf.

- a) zwischen 190 und 260: 200, 210, 220, 230, 240, 250
 b) zwischen 450 und 520: 460, 470, 480, 490, 500, 510
 c) zwischen 930 und 860: 920, 910, 900, 890, 880, 870

0-Zurücksetz den Wert der Positionen an den Zahlenstrahlen erkennen, dann die fehlenden Zahlen ermitteln oder zuzurechnen.

1 Wie heißen die Zahlen?

a)

--	--	--	--

3	7	2	2
H	Z	E	E
3	7	2	

 b)

--	--	--	--	--

5	4	5	5
H	Z	E	E
5	4	5	5

2 Schreibe die Zahlen.

H	Z	E
4	6	3

 Zahl: 463 a)

H	Z	E
5	2	0

 Zahl: 520 b)

H	Z	E
	7	8

 Zahl: 78

3 Schreibe die Zerlegung.

712 = 7 H 1 Z 2 E 648 = 600 + 40 + 8
 845 = 8 H 4 Z 5 E 472 = 400 + 70 + 2
 603 = 6 H 0 Z 3 E 907 = 900 + 0 + 7
 499 = 4 H 9 Z 9 E 85 = 0 + 80 + 5

5 Schreibe die Zahlen.

a)

5H	7Z
6E	

 b)

4Z	3H
8E	

 c)

2Z	6H
5E	

 d)

8H	5Z

 e)

8Z	1E

H	Z	E
5	7	6

576

H	Z	E
3	4	8

348

H	Z	E
6	2	5

625

H	Z	E
8	5	0

850

H	Z	E
	8	1

81

6 Schreibe die Zerlegung und das Zahlwort.

562 = 5 H 6 Z 2 E : fünfhundertzweundsechzig
 a) 745 = 7 H 4 Z 5 E : siebenhundertfünfundvierzig
 b) 394 = 3 H 9 Z 4 E : dreihundertvierundneunzig
 c) 807 = 8 H 0 Z 7 E : achthundertseven

