


Auf dem Weg zur 1 000 gibt es
_____ Hundertertafeln.



1 Welche Zahlen können es sein?



7, 107,



2 Wie heißen die Zahlen?

Die erste Zahl
auf der dritten
Hundertertafel:

Die vorletzte
Zahl auf der
siebten Tafel:

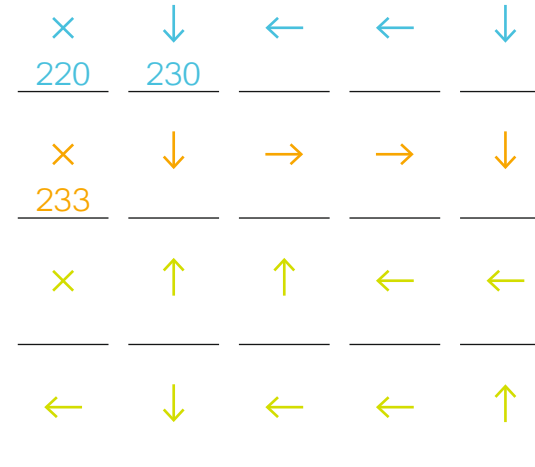
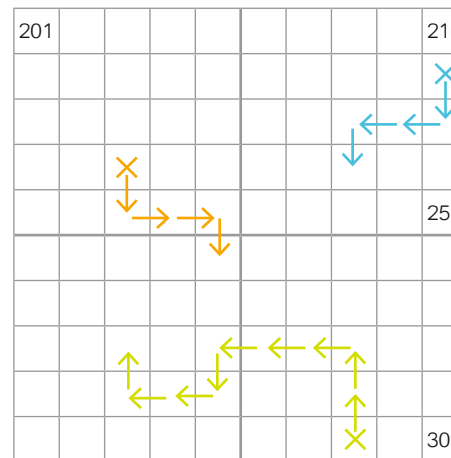
Die letzte Zahl
der vierten
Reihe auf der
zehnten Tafel:

Die 24. Zahl
auf der achten
Tafel: _____

Die erste Zahl in der dritten Reihe
der fünften Hundertertafel: _____

Die Zahl über der letzten Zahl der vierten
Hundertertafel: _____

1 Folge den Pfeilen und notiere die Felder.



2 Detektiv Willi eilt zum Tatort. Spürhund Schnüff folgt den Spuren des Diebes bis zu dessen Versteck.

