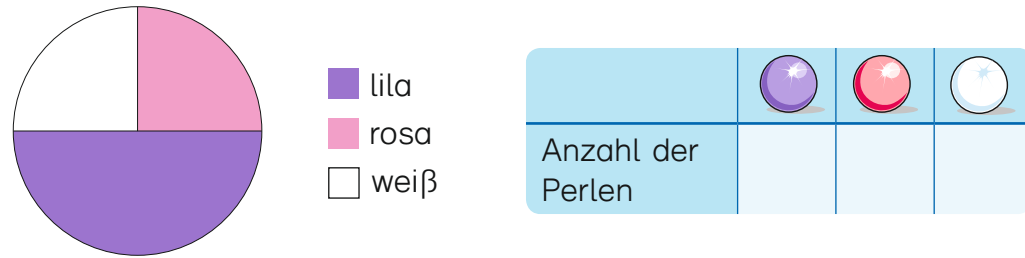


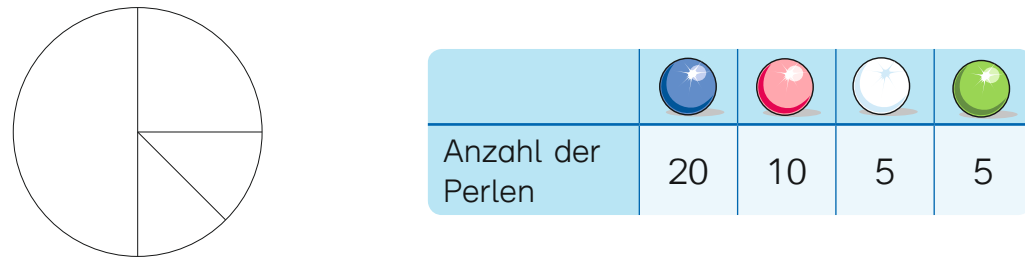
- 1 Prinzessin Lila fädelt eine Halskette mit insgesamt 100 Perlen auf.

In diesem Kreisdiagramm sieht man, wie viele Perlen sie von welcher Farbe verwendet hat. Trage die Anzahl in die Tabelle ein.



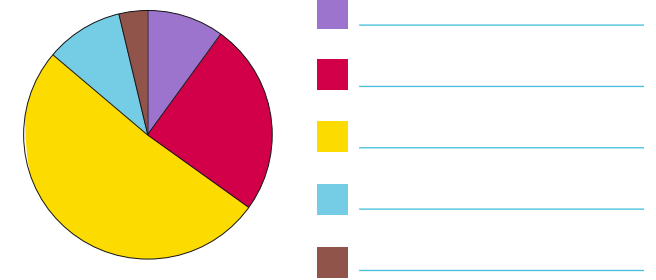
- 2 Prinzessin Lila fädelt ein Armband auf. Sie verwendet Perlen in den Farben Rosa, Blau, Grün und Weiß.

Färbe das Kreisdiagramm entsprechend.



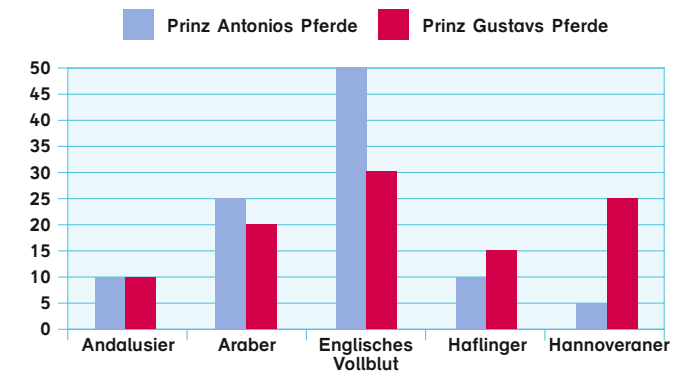
- 3 Prinz Antonio hat in seinem Stall 100 edle Pferde. Ordne die Pferderassen dem Kreisdiagramm zu und schreibe die Namen auf die Linien.

Prinz Antonios Pferde	
Andalusier	10
Araber	25
Englisches Vollblut	50
Haflinger	10
Hannoveraner	5



- 4 Prinz Gustav hat in seinem Stall auch 100 Pferde. Betrachte das Schaubild und ergänze die Tabelle.

Prinz Gustavs Pferde	
Andalusier	
Araber	
Englisches Vollblut	
Haflinger	
Hannoveraner	



Von welchen Pferderassen hat Prinz Antonio mehr Pferde als Prinz Gustav?

Von welchen Pferderassen hat Prinz Antonio weniger Pferde als Prinz Gustav?

Von welcher Pferderasse haben beide Prinzen genau gleich viele Pferde?

