
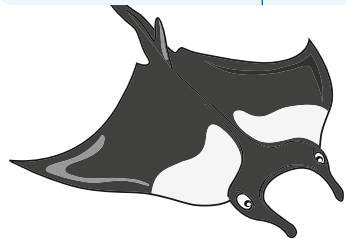
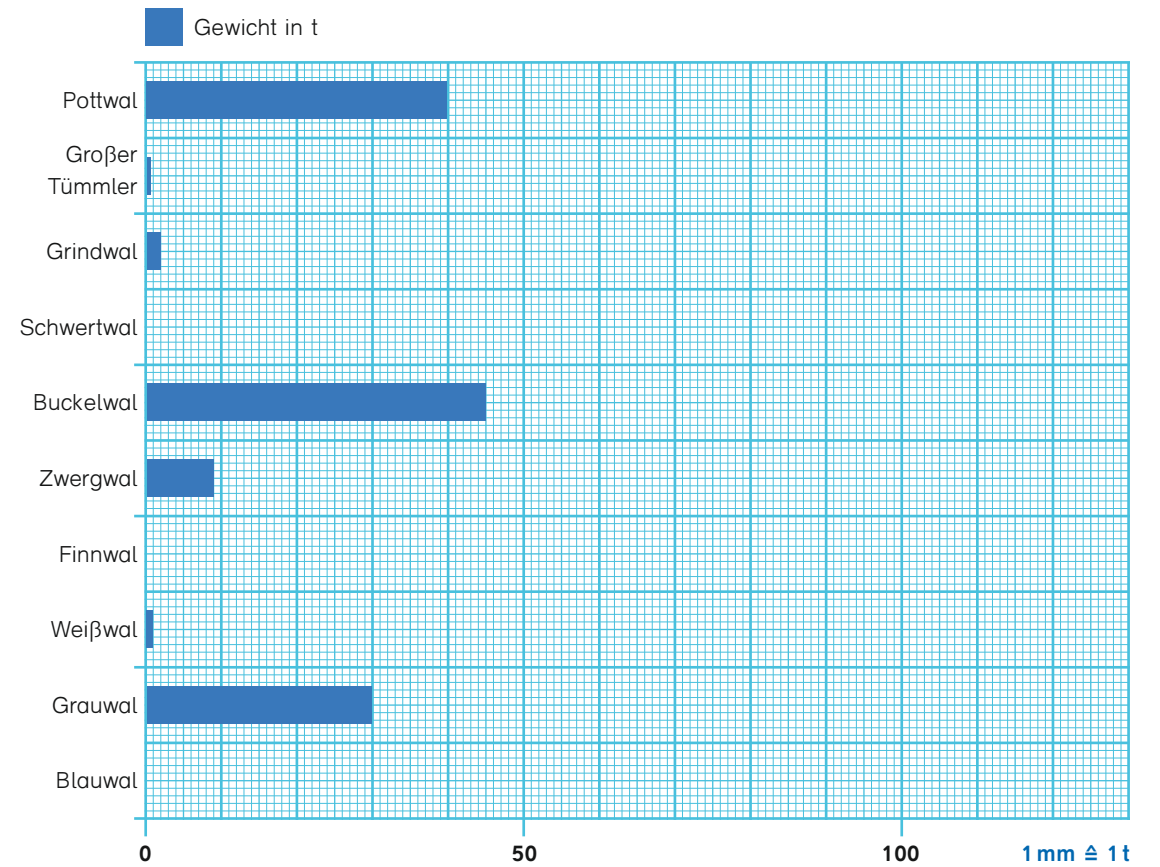



1 Wie schwer sind die Tiere? Trage ihr Gewicht jeweils in Tonnen in die Tabelle ein.

Tier	Gewicht in t	Gewicht in kg
See-Elefant		3 600 kg
Delfin		100 kg
Hai		3 000 kg
Teufelsrochen		2 000 kg
Seekuh		600 kg
Walross		1 000 kg
Kegelrobbe		200 kg
Seehund		100 kg



2 Zeichne die fehlenden Säulen in das Schaubild.



3 Trage das Gewicht dieser Wale in das Schaubild ein.
 Finnwal 80 t, Blauwal 130 t, Schwertwal 7 t



4 Betrachte das Schaubild genau und beantworte die Fragen.
 Welcher Wal wiegt ...
 ... fast 9-mal so viel wie der Zwergwal? _____
 ... das Doppelte des Pottwals? _____
 ... zwei Drittel des Gewichts des Buckelwals? _____

Welche Wale wiegen zusammen genauso viel wie der Blauwal?

