
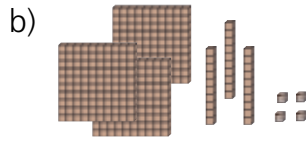


zu S. 13


1 Trage die Zahlen in die Stellentafel ein.



H	Z	E	Zahl
			= _____



H	Z	E	Zahl
			= _____



H	Z	E	Zahl
			= _____

zu S. 15

2 Male Plättchen in die Stellentafeln.

a)

H	Z	E

531

b)

H	Z	E

109

c)

H	Z	E

246

3 Wie heißen die Zahlen?

a)

H	Z	E
•	•••	••

b)

H	Z	E
••	••	•••

c)

H	Z	E
•	••••	

zu S. 17

4 Ordne die Zahlen nach der Größe. Beginne mit der kleinsten Zahl.



16,



zu S. 19

5 Wo landest du auf der Hundertertafel?

a)

584			

b)

		254	

c)

			936

zu S. 21

6 Schreibe auf: a) Nachbarzahlen

	618	
	527	
	399	

b) Nachbarzehner

	428	
	963	
	254	

c) Nachbarhunderter

	748	
	292	
	403	